

# Statistika – Data

Membaca dan Menafsirkan Data  
Dalam Bentuk Tabel dan Diagram

*Mrs. Riyani Amrullah*


Nama :

Kelas :

---

Perhatikan vidio berikut ya anak-anak!!!

Tinggal Klik aja





Tugas Kalian



Isilah pertanyaan berikut dengan jawaban yang tepat!

1. Berikut adalah diagram gambar dari data penjualan apel di Toko Buah Segar

Hari	Banyak Penjualan (Kg)
Senin	
Selasa	
Rabu	
Kamis	
Jumat	
Sabtu	
Minggu	

Keterangan:



mewakili 20 apel



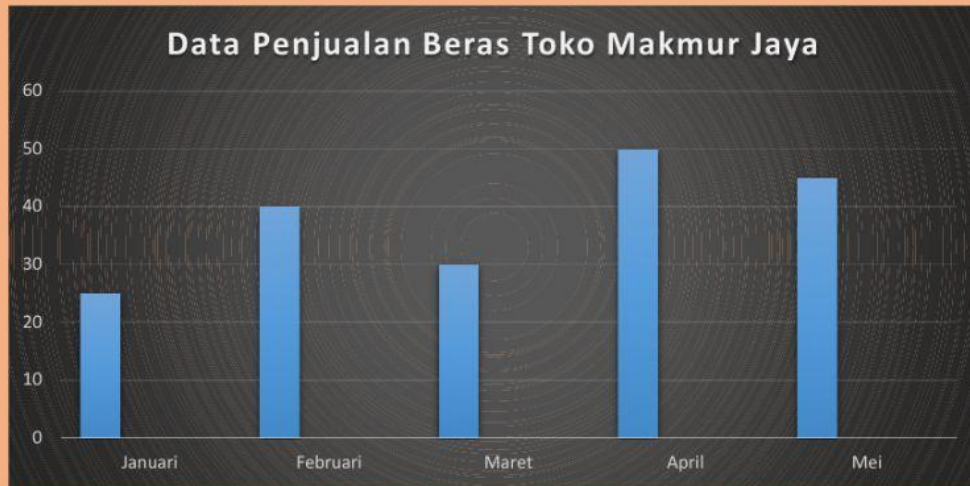
mewakili 10 apel

- a. Banyak apel yang terjual pada hari senin adalah  Kg
- b. Banyak apel yang terjual pada hari kamis adalah  Kg
- c. Banyak apel yang terjual pada hari sabtu adalah  Kg
- d. Banyak apel yang terjual pada hari minggu adalah  kg
- e. Penjualan apel paling sedikit adalah hari
- f. Rata-rata penjualan apel per hari adalah  Kg

No Berikutnya



2. Diagram batang berikut menunjukkan data banyak penjualan beras (dalam kuintal) di Toko Makmur selama lima bulan



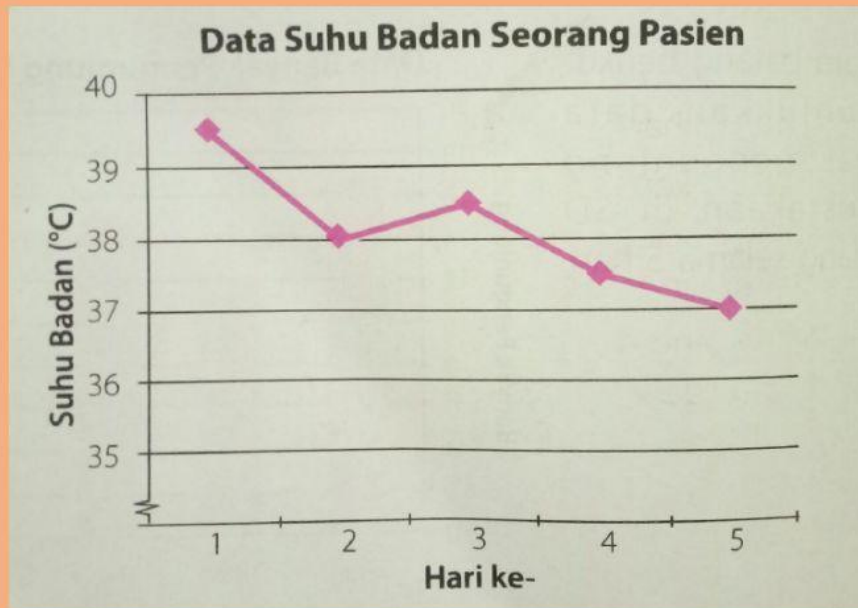
- a. Penjualan beras terbanyak terjadi pada bulan
- b. Penjualan beras di bulan Februari mengalami peningkatan sebanyak  kuintal
- c. Jumlah seluruh penjualan beras selama 5 bulan adalah  kuintal
- d. Rata-rata banyak penjualan beras per bulan adalah  kuintal

No Berikutnya





3. Diagram garis berikut menunjukkan data suhu badan (dalam  $^{\circ}\text{C}$ ) seorang pasien selama 5 hari.



- a. Suhu badan tertinggi terjadi pada hari ke-   
yaitu sebesar   $^{\circ}\text{C}$
- b. Suhu badan terendah terjadi pada hari ke-   
yaitu sebesar   $^{\circ}\text{C}$
- c. Kenaikan suhu badan terjadi pada hari ke-   
yaitu naik sebesar   $^{\circ}\text{C}$
- d. Rata-rata suhu badan pasien tersebut adalah   
 $^{\circ}\text{C}$