





















Grafico sui mezzi usati per andare a scuola

Nella 3B gli studenti hanno fatto un sondaggio nella loro classe per capire quali mezzi vengono più usati per andare a scuola.

Osserva il grafico e rispondi alle domande.

Ricorda: conta sempre attentamente e rifletti sulla domanda.

A PIEDI							
In macchina							
In bici							
In autobus							

1. Quanti studenti hanno partecipato al sondaggio? _____
2. Quanti studenti vanno a scuola a piedi? _____
3. Quanti studenti vanno a scuola in bicicletta? _____
4. Quanti studenti vanno a scuola in macchina? _____
5. Quanti studenti vanno a scuola in autobus? _____
6. Quale è il mezzo più usato? _____

