

Hiru zifrako zenbakiak

Ikasturtearen hasiera ospatzeko, ongietorri-festa egiten ari dira Mikelen ikastetxean. Guztira, 253 pertsona daude.

253 zenbakiak hiru zifra ditu.



$$253 = 2E + 5H + 3B$$

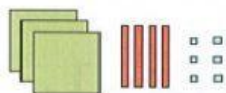
$$253 = 200 + 50 + 3$$

253 berrehun eta berrogeita hamahiru irakurtzen da.



Hiru zifrako zenbakiak ehunekoak, hamarrekoak eta batekoak dituzte.

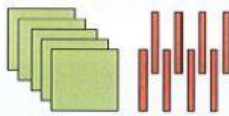
1 Osatu zure koadernoan.



E	H	B

$$346 = \dots E + \dots H + \dots B$$

$$346 = \dots + \dots + \dots$$



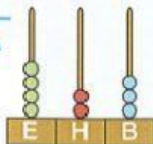
E	H	B

$$\dots = \dots E + \dots H$$

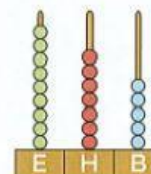
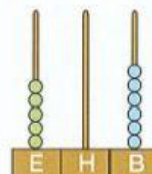
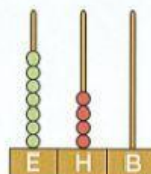
$$\dots = \dots + \dots$$

2 Begiratu adibideari eta deskonposatu abako bakoitzean adierazitako zenbakia.

ADIBIDEA



4	E	+	2	H	+	3	B
4	0	0	+	2	0	+	3



A)

B)

C)

A) E + H + B = + +

B) E + H + B = + +

C) E + H + B = + +

