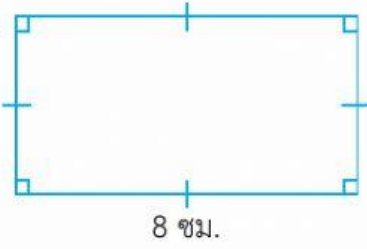
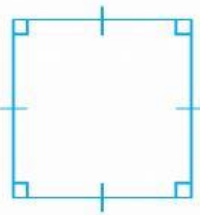
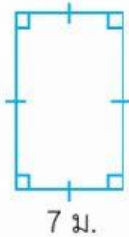


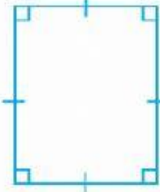
แบบฝึกหัด 5.14

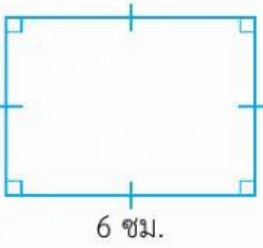
หาความยาวรอบรูปของรูปสี่เหลี่ยมต่อไปนี้

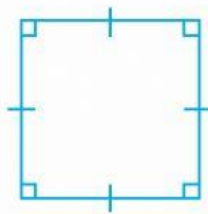
1.  5 ซม.  
8 ซม.  
ความยาวรอบรูป  
..... เซนติเมตร

2.  6 ม.  
ความยาวรอบรูป  
..... เมตร

3.  12 ม.  
7 ม.  
ความยาวรอบรูป  
..... เมตร

4.  5 ซม.  
4 ซม.  
ความยาวรอบรูป  
..... เซนติเมตร

5.  5 ซม.  
6 ซม.  
ความยาวรอบรูป  
..... เซนติเมตร

6.  10 ม.  
ความยาวรอบรูป  
..... เมตร

