

Phiếu bài tập tuần 6

Họ và tên:

Lớp:

Bài 1: Đặt tính rồi tính $27 + 4$

A

$$\begin{array}{r} + 27 \\ \underline{+ 4} \\ 67 \end{array}$$


B


$$\begin{array}{r} + 27 \\ \underline{+ 4} \\ 21 \end{array}$$


C


$$\begin{array}{r} + 27 \\ \underline{+ 4} \\ 31 \end{array}$$

Bài 2: Hãy giúp bạn Thỏ tìm củ cà rốt chọn đáp án đúng $17 \text{ cm} - 3 \text{ cm} = ?$

 A. 77 dm

 B. 13 cm

 C. 23 dm

 D. 14 cm



Bài 3: Nối các ô với nhau

11-7

9

14-6

8

12-6

4

13-6

5

14-5

6

Bài 4: Viết số vào ô thích hợp

$27 - \square = 19$

$11 - 4 = \square$

$13 - \square = 6$

$\square - 8 = 9$

$19 - \square = 12$

$\square - 8 = 6$

Bài 5: Đúng và sai

$13 - 5 = 8$

$17 - 8 = 14$

$32 - 18 = 7$

$13 - 7 = 6$

$14 - 9 = 5$

$15 - 6 = 9$

Bài 6: Hãy giúp bạn gà tìm trứng dùm mẹ bằng cách (<;>;=) vào ô thích hợp

$14 - 7$ $6 + 7$

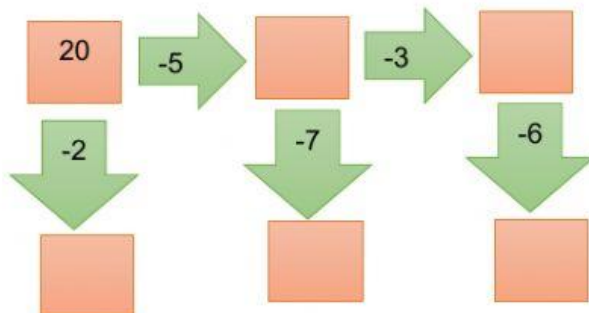
$20 - 18$ $12 + 9$

$26 - 14$ $43 - 17$

$72 - 28$ $22 + 22$



Bài 7 : Số ?



Bài 8: Điền đáp án thích hợp vào ô trống

a) $17 \text{ cm} - 5 \text{ cm} =$

b) $5 \text{ dm} + 7 \text{ cm} =$

c) $2 \text{ dm} + 3 \text{ cm} + 4 \text{ cm} =$

Bài 9: Trong vườn có 20 cây chuối , số cây chanh ít hơn số cây chuối là 5 cây. Hỏi trong vườn có bao nhiêu cây chanh?

Trong vườn có số cây chanh là:

$$\square + \text{○} = \square$$

Đáp số: cây

Bài 10: Số thứ nhất là 27. Số thứ hai lớn hơn số thứ nhất là 5. Tìm số thứ hai.

Bài giải

Số thứ hai là:

$$\square + \text{○} = \square$$

Đáp số: