

5 testas

1.

2 taškai _____

$$\frac{1}{3} \text{ h} = \dots\dots\dots \text{min} \quad \frac{3}{5} \text{ m} = \dots\dots\dots \text{cm}$$

2.

2 taškai _____

Rita turėjo 3 €. Parduotuvėje ji išleido $\frac{1}{3}$ savo pinigų. Kiek eurų Ritai liko?

3.

1 taškas _____

45 saldinius mama padalijo 5 vaikams po lygiai. Po kiek saldinių teko kiekvienam vaikui?

4. Suskaičiuok.

4 taškai _____

$29 : 4 =$

$70 : 9 =$

$52 : 6 =$

$64 : 7 =$

5. Apskaičiuok reiškinių reikšmes.

4 taškai _____

$600 : 3 + 142 =$


$(164 - 34) + 348 =$

$7 \cdot 40 - 120 =$


$50 \cdot (91 - 89) =$

6. Kokią oro temperatūrą rodo termometrai?


5 taškai _____




°C




°C



°C



°C

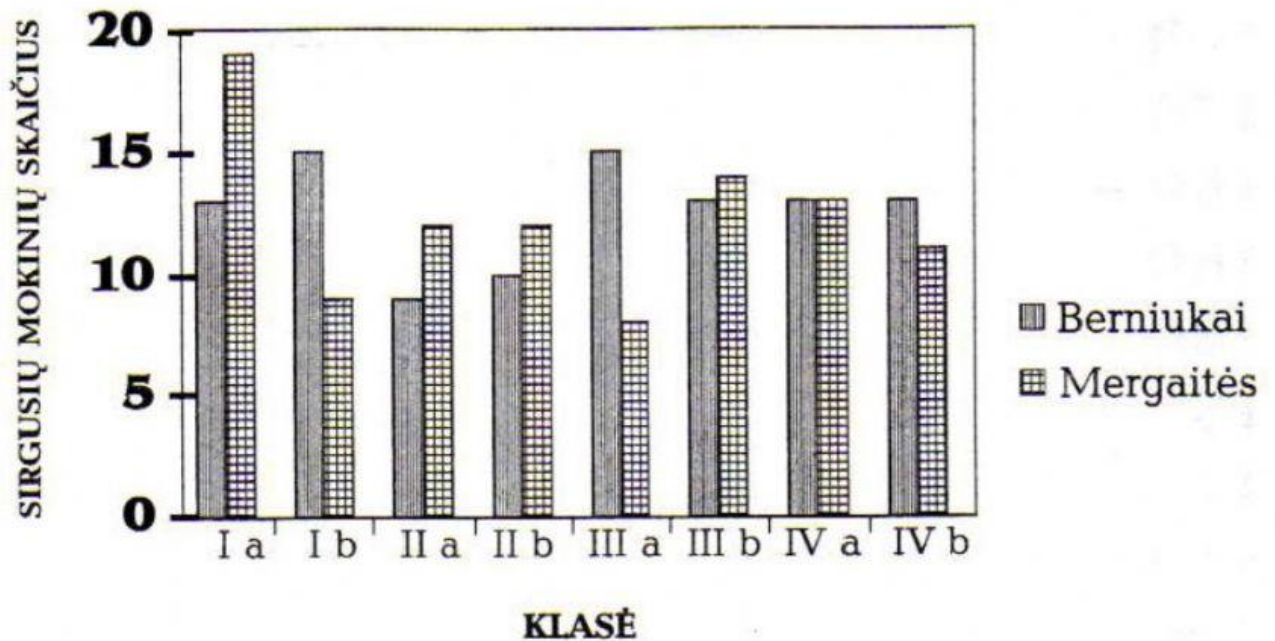


°C

7. Diagramoje pavaizduotos klasės ir jose esančių sirgusių mokinių skaičius per mokslo metus.

Užpildykite lentelę.

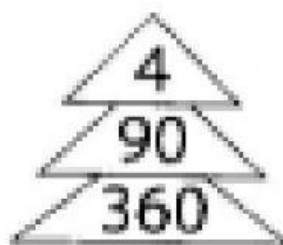
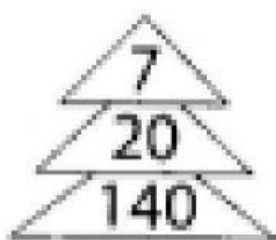
4 taškai _____



Klasė	Sirgo berniukų	Sirgo mergaičių	Iš viso sirgo
I a			
I b			
II a			
II b			
III a			
III b			
IV a			
IV b			

8. Parašyk keturis tarpusavyje susijusius veiksmus.

4 taškai _____



$$\square \cdot \square = \square$$

$$\square \cdot \square = \square$$

$$\square : \square = \square$$

$$\square : \square = \square$$

9. Nuspalvink $\frac{2}{7}$ gėlytes.

1 taškas _____



10.

1 taškas _____

Skaičių 70 padidink 6 kartus.

Skaičių 200 sumažink 4 kartus.

Skaičių 80 padidink 9 vienetais.

Teisingai atlikęs visas užduotis, galėjai surinkti 30 taškų. Surinkai _____