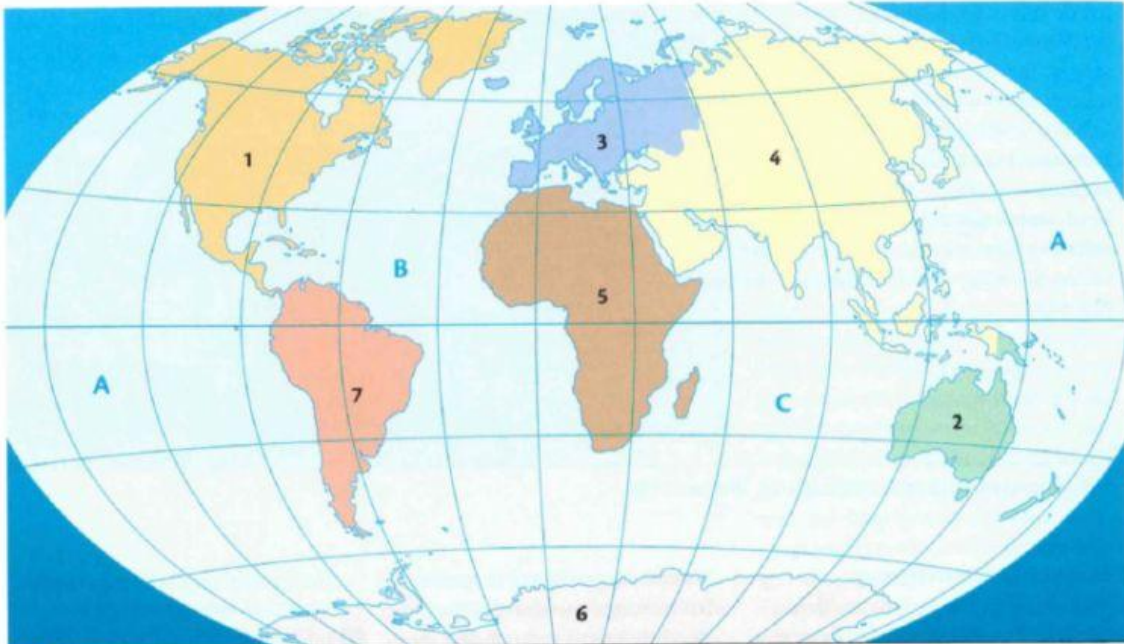


Aufg. 1: Ordne die Namen der Kontinente und Ozeane der Weltkarte M1 richtig zu

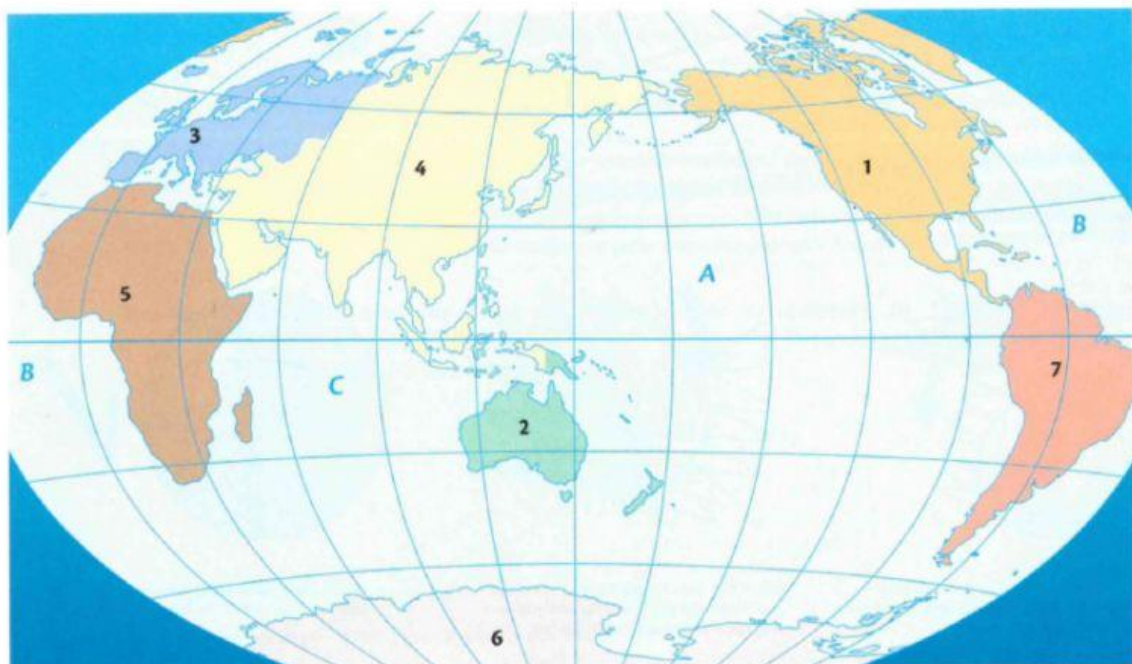
Asien Australien Nordamerika Afrika
 Südamerika Europa Antarktika
 Atlantik Indischer Ozean Pazifik Pazifik



M1 Kontinente und Ozeane

Aufg. 2: Ordne die Namen der Kontinente und Ozeane auf M2 richtig zu

Asien Australien Nordamerika Afrika
 Südamerika Europa Antarktika
 Atlantik Indischer Ozean Pazifik Atlantik



M4 Eine Karte aus einem australischen Atlas

Mein Wissen über Kontinente und Ozeane auf der Erdkugel

1. Fülle die Lücken aus.

- a) Der Indische Ozean ist von vier Kontinenten umgeben: _____,
_____, _____ und _____.
- b) Im Norden des Indischen Ozeans liegt der Kontinent _____.
- c) Auf der Ostseite des Atlantischen Ozeans liegen zwei Kontinente:
_____ und _____.
- d) Auf der Westseite von Australien liegt der _____ Ozean.
Auf der Ostseite von Australien liegt der _____ Ozean.

2. Vervollständige die Sätze.

- a) Nordamerika liegt westlich von Europa.
- b) Nordamerika liegt _____ von Südamerika.
- c) Asien liegt _____ von Europa.
- d) Afrika liegt _____ von Europa.
- e) Afrika liegt _____ von Asien.
- f) Europa liegt _____ von Nordamerika.
- g) Europa liegt _____ von Südamerika.
- h) Australien liegt _____ von Asien.
- i) Die Antarktis liegt _____ von Afrika.

3. Vergleiche. Kreuze die richtige Antwort an.

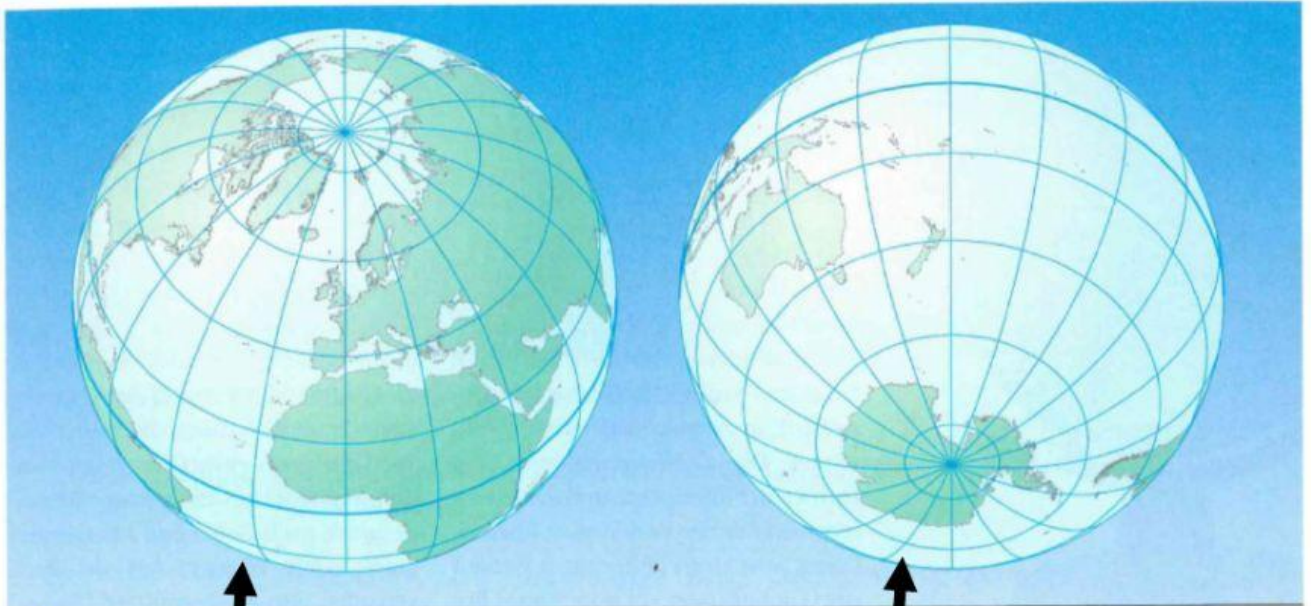
- a) Was liegt weiter südlich?
☐ Asien oder ☐ Australien?
- b) Was liegt weiter östlich?
☐ Afrika oder ☐ Australien?
- c) Was liegt weiter nördlich?
☐ Antarktis oder ☐ Asien?
- d) Welcher Kontinent ist größer?
☐ Australien oder ☐ Afrika?
☐ Asien oder ☐ Südamerika?
☐ Nordamerika oder ☐ Europa?
☐ Nordamerika oder ☐ Australien?
☐ Afrika oder ☐ Europa?

4. Fülle die Lücken aus

(wenn du nicht weiter weißt schau erneut auf der **Rückseite nach, lies genau, schau genau hin**)

- a) Dieser Kontinent ist am größten: _____.
- b) Dieser Kontinent ist am kleinsten: _____.
- c) Diese Kontinente liegen fast vollständig auf der Südhalbkugel:
_____ und _____.
- d) Diese Kontinente liegen vollständig westlich des Nullmeridians:
_____ und _____.
- e) Diese Kontinente liegen vollständig östlich des Nullmeridians:
_____ und _____.
- f) Durch diese Kontinente verläuft der Nullmeridian:
_____, _____ und _____.
- g) Durch diesen Kontinent verlaufen der Nullmeridian und der Äquator:
_____.

Beschrifte den Globus mit den Kontinenten und Ozeanen



M3 Landhalbkugel und Wasserhalbkugel der Erde

Asien	Australien
Nordamerika	Afrika
Südamerika	Europa
Antarktika	
Atlantik	Indischer Ozean
Pazifik	Pazifik

Asien	Australien
Nordamerika	Afrika
Südamerika	Europa
Antarktika	
Atlantik	Indischer Ozean
Pazifik	Pazifik