

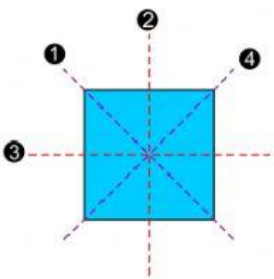
NAMA :
 KELAS : 3
 TANGGAL :Jumadats Tsaniyyah 1443 H
 :Januari 2022

MAPEL : Matematika (3.3)
 MATERI : Simetri Lipat
 NILAI :

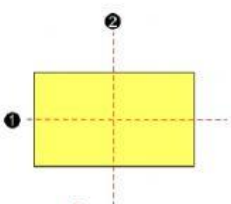
Ucapkanlah basmalah dan doa! Semoga Allah *Azza wa Jalla* memudahkanmu dalam menjawab soal.

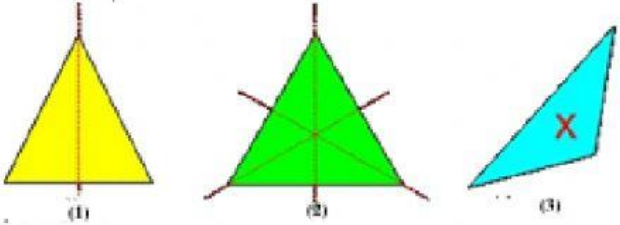
Kamu telah mempelajari bahasan tentang simetri putar, jawablah pertanyaan berikut dengan benar!

Perhatikan gambar berbagai bangun datar berikut!

1.  Nama dari bangun di samping adalah...

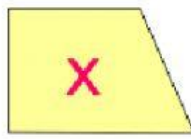
Ada berapakah jumlah simetri lipat pada bangun tersebut?

2.  Persegipanjang di samping memiliki simetri lipat sebanyak...

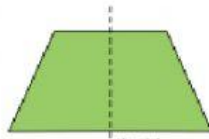
3. 

Gambar (1) adalah segitiga sama kaki memiliki simetri lipat, gambar (2) adalah segitiga sama sisi memiliki simetri lipat dan gambar (3) adalah segitiga sembarang memiliki Simetri lipat.


4. Tentukanlah jumlah simetri lipat dari bangun datar di bawah ini!



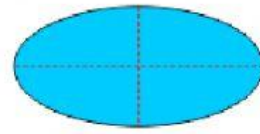
sembarang



sama kaki



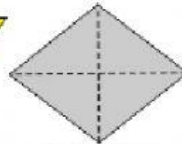
lingkaran



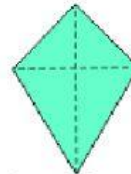
oval



jajar genjang



belah ketupat



layang-layang

Pesan / Nasihat :

Bertawakkal kepada Allah *Azza wa Jalla* usai mengerjakan soal dan terus semangat untuk bersegera dalam kebaikan!