






จากแผนภูมิรูปภาพ จงตอบคำถามต่อไปนี้

จำนวนเงินออมในแต่ละวันของน้องพลอยใส

วันจันทร์	
วันอังคาร	
วันพุธ	
วันพฤหัสบดี	
วันศุกร์	

กำหนดให้  แทนจำนวนเงิน 5 บาท

1. แผนภูมินี้แสดง.....

2.  แทนจำนวนเงิน.....บาท

3. วัน.....ออมเงินได้มากที่สุด และออมเงินได้.....บาท

4. วัน.....ออมเงินได้น้อยที่สุด และออมเงินได้.....บาท

5. วันอังคารกับวันพฤหัสบดีออมเงินได้รวมกัน.....บาท

6. วัน.....ออมเงินได้มากกว่าวันจันทร์อยู่ 10 บาท

7. วันศุกร์ออมเงินได้น้อยกว่าวันพุธ.....บาท

8. วันจันทร์ – วันศุกร์ ออมเงินได้ทั้งหมดรวมกัน.....บาท