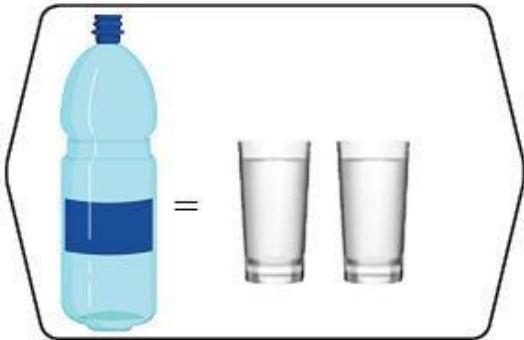


Lengkapkan yang berikut.

Complete the following.


1



biji gelas air boleh mengisi penuh sebiji botol.

glasses of water can fill up a bottle.

2

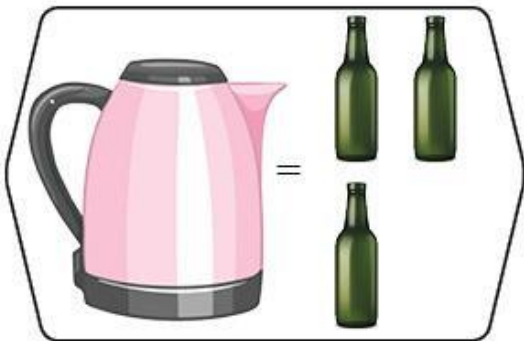


Satu jag itu boleh mengisi penuh

biji cawan.

A jug can fill up cups.

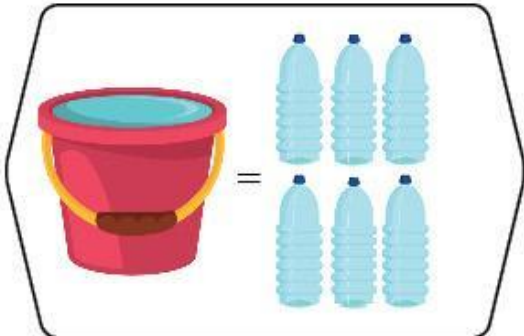
3



Isi padu air di dalam ceruk itu sama dengan biji botol.

The volume of water in the kettle is equal to bottles.

4



biji botol air boleh mengisi penuh sebuah baldi.

water bottles can fill up a bucket.