



PHIẾU ÔN TẬP – TUẦN 18

MÔN TOÁN

1. Quan sát tranh, viết phép tính thích hợp:



2. Tính:

$10 - 4 + 2 =$

$4 + 6 - 5 =$

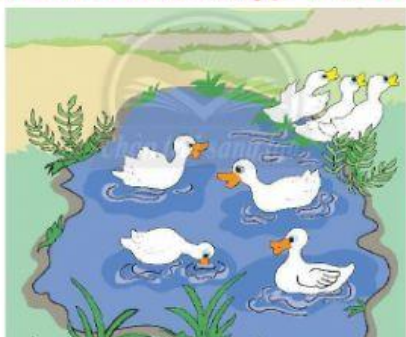
$9 - 6 + 3 =$

$8 - 5 + 3 =$

$5 - 3 + 7 =$

$1 + 8 - 6 =$

3. Điền số thích hợp vào chỗ chấm:



Có tất cả con vịt.

..... con vịt **lên bờ**.

Còn lại con vịt dưới ao.

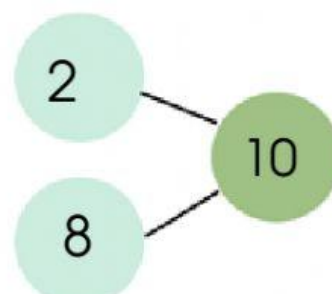
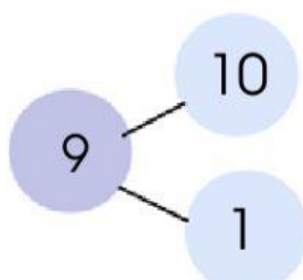
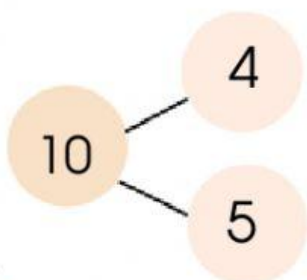
4. Điền dấu: > , < , =

$10 - 4 \dots \dots 8 + 2$

$6 + 4 \dots \dots 6 + 3$

$8 - 5 \dots \dots 3 + 4$

5. Sơ đồ tách - gộp nào sau đây được viết đúng ?



MÔN: TIẾNG VIỆT

1. Chọn từ thích hợp điền vào chỗ chấm:

sầu riêng



con đường



mắt kính




2. Đọc và trả lời câu hỏi:

Rùa con tìm nhà

Có một chú rùa con đi tìm nhà của mình. Chú đến hỏi cô ong, bác thỏ. Họ đều lắc đầu không biết. Rùa bơi xuống sông tìm nhưng vẫn chẳng thấy. Cuối cùng, nhờ chị ốc sên, rùa biết được nhà của mình. Đó chính là chiếc mai chú mang trên lưng.

Theo Hoa Niên

Hãy nhìn chị rồi quay đầu nhìn lưng của em.



Chọn ý trả lời đúng:

1. Bài đọc có mấy tiếng chứa vần ông?

A. hai tiếng

B. ba tiếng

C. bốn tiếng

2. Ai chỉ cho rùa con thấy nhà của mình?

A. cô ong

B. bác thỏ

C. chị ốc sên

3. Nhà của rùa con ở đâu?

A. sau chân núi

B. trước mặt

C. trên lưng

3. Chọn từ viết đúng chính tả:



khủng long
khủng long



múi bưởi
muối bưởi



dâu tay
dâu tây

4. Nói hình với từ thích hợp:

Chú ốc sên

rất thơm ngon.

Bánh ngọt

bò chậm chạp.

Đồng hồ báo thức

rất đúng giờ.

5. Sắp xếp các từ ngữ thành câu phù hợp:

đi

đàn con

kiếm ăn.

dẫn

Gà mẹ



.....