



UNIDAD EDUCATIVA PARTICULAR
"LA COLINA"

Nivel: 1ero E.G.B.

Nombre:

Fecha: 07 de diciembre de 2021

Parcial segunda unidad:

Bloque N° 02:

- La evaluación contiene preguntas teóricas y prácticas con el objetivo de identificar los objetivos de la unidad didáctica. Responda el cuestionario de manera responsable y considere su tiempo límite de evaluación son de 40 minutos.

1.- Como se llama las teclas que se encuentran de color VERDE:

(1 pts.)



2.- Empareje el nombre de los tipos de ordenadores con el gráfico correspondientes:

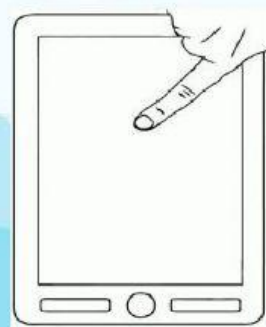
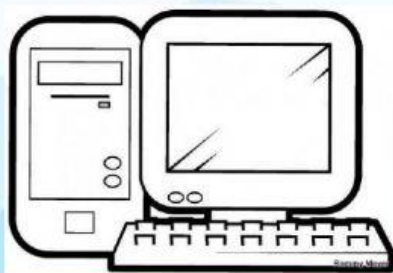
(5 pts.)

LAPTOP

TABLET

COMPUTADOR
DE ESCRITORIO

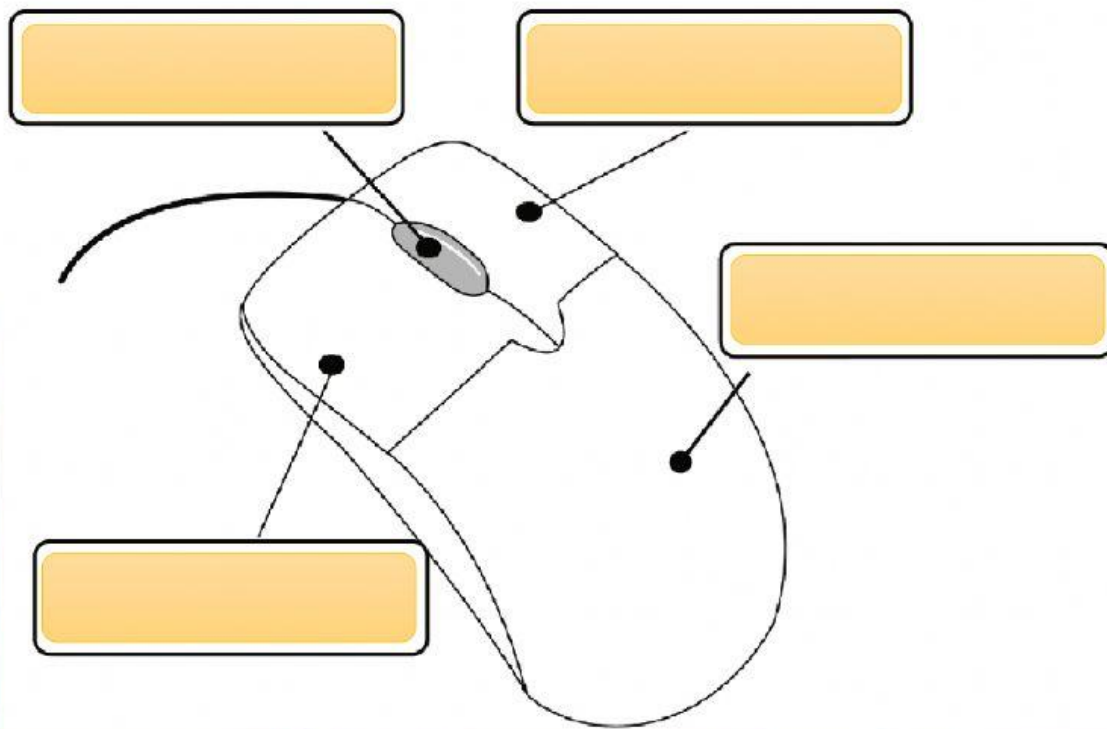
SMARTPHONE



3.- Seleccione la opción correcta:

¿Identifique cada uno de las partes del MOUSE o RATON?:

(4 pts.)



- PREGUNTA DE REFUERZO:

A continuación, encontrará una pregunta que le ayudará en su evaluación, su valoración es de un punto adicional.

4.- Como se llama las teclas que se encuentran de color MORADO:

(1 pt.)



Ha completado el cuestionario

¡MUCHAS GRACIAS!



- Pulse enviar y complete los datos informativos;
- Por último, coloque el código: **pa9tegc0phj**