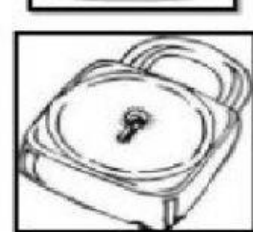
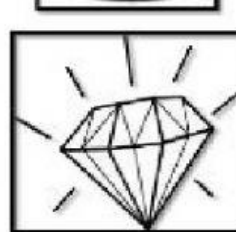


EVALUACIÓN DE CIENCIAS NATURALES  
TABLA DE RESPUESTAS  
SEGUNDO PARCIAL

<b>DOCENTE:</b>	- MARICELA ANELOA - AMPARITO BENTANCOURT	<b>AÑO BÁSICO:</b>	2 do	<b>PARALELO:</b>	
<b>JORNADA:</b>	MATUTINA	<b>FECHA:</b>	___/___/___	<b>CALIFICACIÓN:</b>	
<b>ESTUDIANTE:</b>					/10

CN.2.1.1. Observar las etapas del ciclo vital del ser humano y registrar gráficamente los cambios de acuerdo con la edad

1- selecciona los animales que solicita la maestra



CN.2.1.10. Indagar y describir las características de los hábitats locales, clasificarlos según sus características e identificar sus plantas y animales

Selecciona los seres que solicita la maestra.

2.- Unir con una línea como indique la maestra.

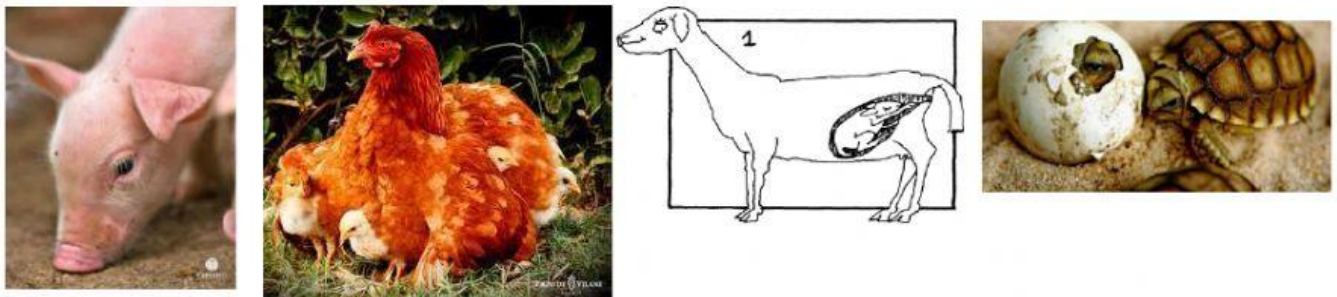


CN.2.1.2. Observar e identificar los cambios en el ciclo vital de diferentes animales (insectos, peces, anfibios, reptiles, aves y mamíferos) y compararlos con los cambios en el ciclo vital del ser humano

3. Enumera como te indica la maestra.



4. Selecciona como nacen los animales según como te indique la maestra.



5.- selecciona los animales que indica la maestra

