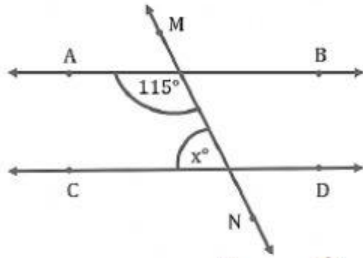


บทที่ 3	เส้นขนาน	ใบงาน ขนาดของมุมภายใน	คะแนน
สารที่ 2 การวัดและเรขาคณิต มาตรฐาน ค 2.2 ม.2/2		ชื่อ.....ชั้น.....เลขที่.....	

คำชี้แจง ให้นักเรียนหาค่าของ X ในแต่ละข้อต่อไปนี้ เมื่อกำหนดให้เส้นตรงแต่ละคู่ขนานกัน

1.



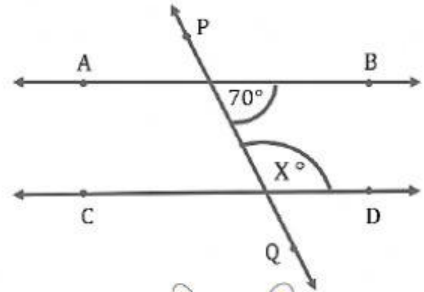
X =

วิธีทำ

.....

.....

2.



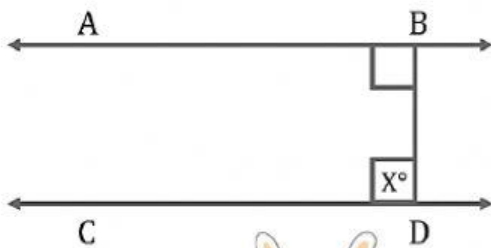
X =

วิธีทำ

.....

.....

3.



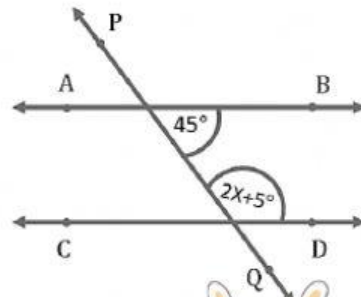
X =

วิธีทำ

.....

.....

4.



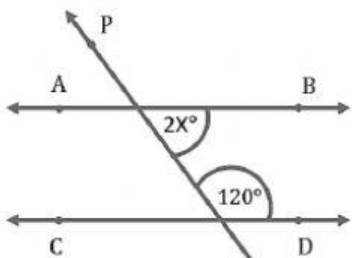
X =

วิธีทำ

.....

.....

5.



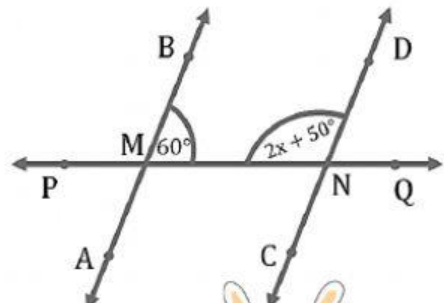
X =

วิธีทำ

.....

.....

6.



X =

วิธีทำ

.....

.....