

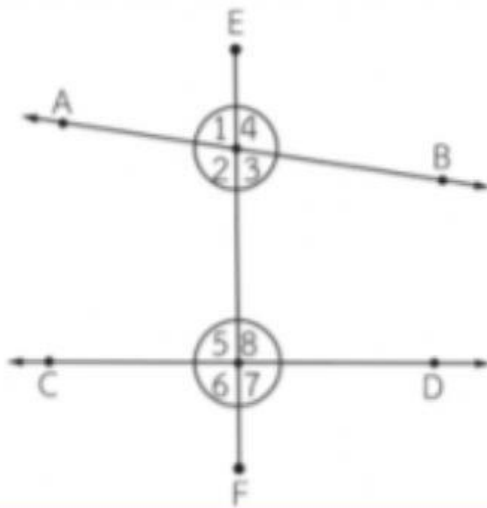


ชุดที่ 19



มุมใดบ้างเป็นมุมภายใน มุมใดบ้างเป็นมุมภายนอก

1.



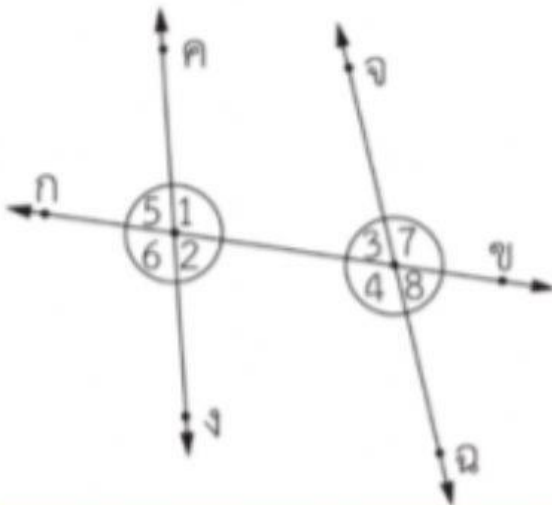
มุมภายใน คือ

.....

มุมภายนอก คือ

.....

2.



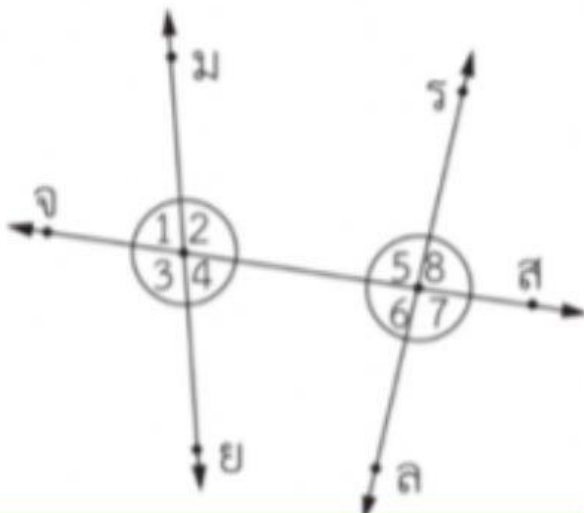
มุมภายใน คือ

.....

มุมภายนอก คือ

.....

3.



มุมภายใน คือ

.....

มุมภายนอก คือ

.....

