

Thứ sáu ngày 14 tháng 01 năm 2022

TOÁN

Ôn tập phép cộng và phép trừ



 **LIVEWORKSHEETS**

6

Có 7 con đom đóm bay ra ngoài, trong bình còn lại 5 con đom đóm. Hỏi lúc đầu trong bình có bao nhiêu con đom đóm?



Bài toán hỏi gì?

1

Bài giải

.....:

..... = (.....)

.....:



Có thể em chưa biết

Đom đóm là loài côn trùng cánh cứng nhỏ, có khả năng phát sáng, hoạt động về ban đêm, con đực thường có cánh và bay vào những đêm đầu mùa hạ.

7 Mỗi con vật che dấu phép tính nào (+, -) ?

a) 76  20 = 96

b) 0  51 = 51

76  20 = 56

83  83 = 0










42  0 = 42

c) 35  19 = 19  35



Giúp bạn Kiến tìm đường về nhà.



	$11 + 28$	
 $75 - 35$	 $6 + 72$	
 $36 + 13$	 $83 - 44$	 $18 + 71$
 $40 + 29$	 $83 - 43$	 $50 - 20$ $13 + 69$

Đi theo các
phép tính có nhớ



Các phép tính
cộng, trừ qua 10

Vẽ đường đi vào Sách
Giáo Khoa trang 121

8

Viết phép tính tìm số con bọ rùa được hỏi ở mỗi hình vẽ sau.

a)

9

?

7

?

?

?


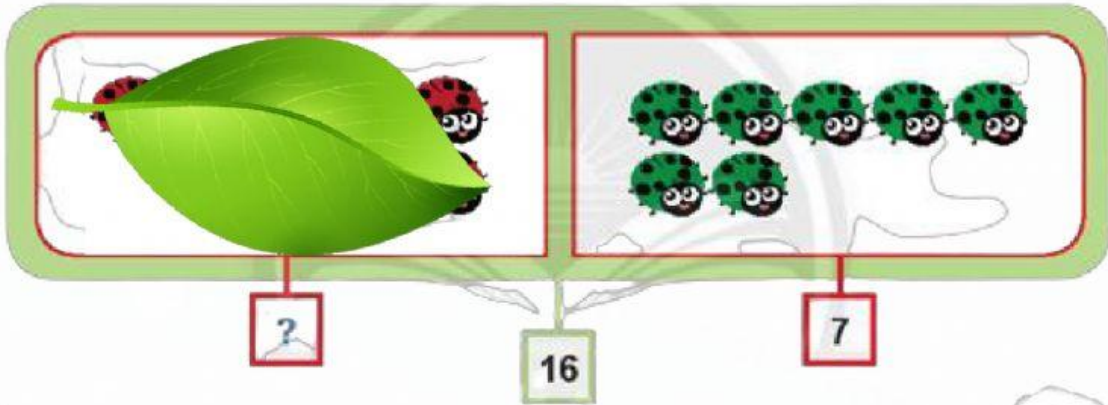
?

?

8

Viết phép tính tìm số con bọ rùa được hỏi ở mỗi hình vẽ sau.

b)



8

Viết phép tính tìm số con bọ rùa được hỏi ở mỗi hình vẽ sau.

c)



9

16

?



9 SỐ?

a) Bạn gái có **nhiều hơn** bạn trai ? hạt đậu.

Phép tính:

.....

b) Bạn trai có **ít hơn** bạn gái ? hạt đậu.

