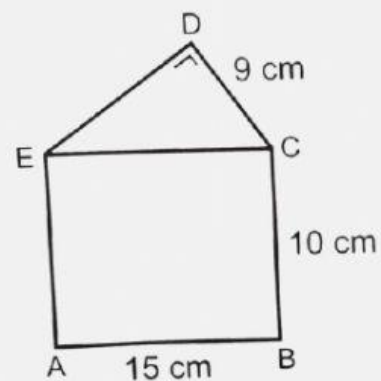
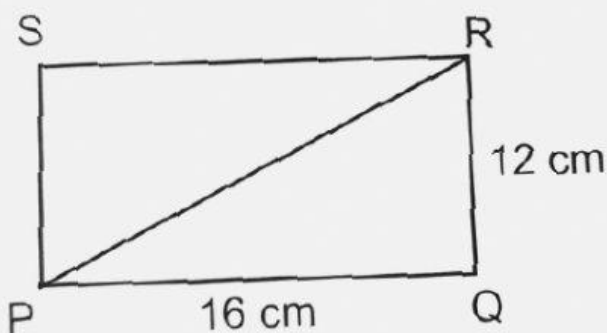
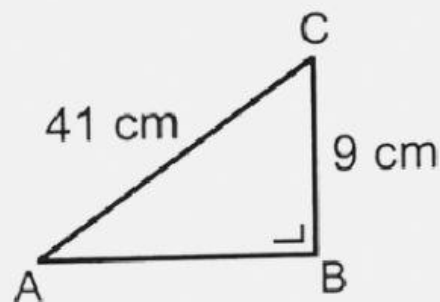
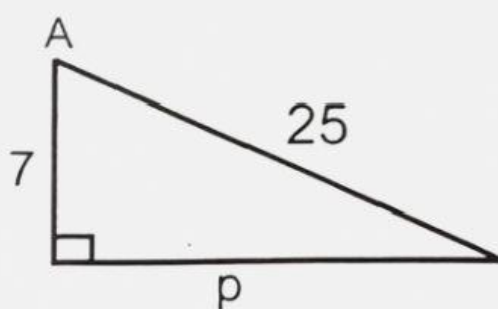


NAMA

KELAS

PETUNJUK !

1. Jika Soal berupa gambar silahkan langsung isi dengan angka saja !
2. Untuk soal yang menentukan Jenis segitiga silahkan menyimak arahan dari guru !



Tentukan jenis segitiga dengan panjang sisi-sisi sebagai berikut :

- a). 12 cm, 16 cm, 19 cm
- b). 24 cm, 18 cm, 30 cm
- c). 12 cm, 16 cm, 21 cm