

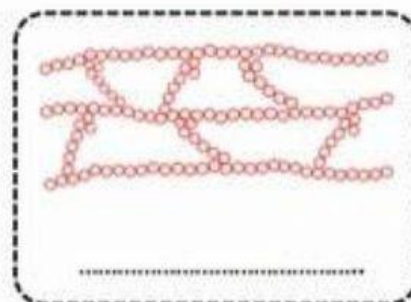
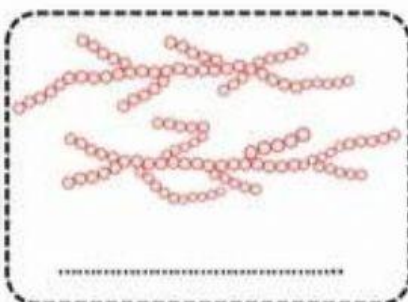
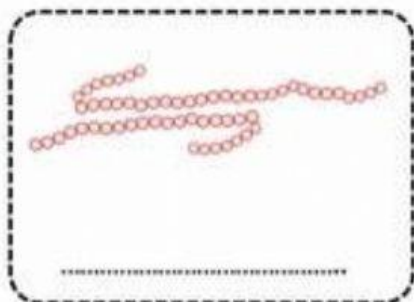


ชื่อ-สกุล..... ชั้น ม.3/..... เลขที่.....



วัสดุรอบตัว

คำชี้แจง : ให้นักเรียนระบุประเภทของโครงสร้างพอลิเมอร์ให้ถูกต้อง



จากภาพโครงสร้างของพอลิเมอร์ข้างต้นวงกลมเล็ก ๆ ที่เรียงต่อกันเข้า ๆ เรียกว่าอะไร
ตอบ.....

คำชี้แจง : ให้นักเรียนระบุประเภทของวัสดุที่กำหนดให้ข้อใดเป็น พอลิเมอร์ เซรามิก โลหะ และวัสดุผสม

ถ้วยกาแฟ 	ขวดน้ำดื่ม 	หม้อ 	คอนกรีต
ชุดกันฝน 	เครื่องเล่นกลางแจ้ง 	ตะปู 	ลูกโป่ง
ท่อพีวีซี 	ฉนวนหุ้มสายไฟ 	เชือก 	ถุงมือยาง