



Phiếu ôn tập 2


Họ tên:

Lớp:


Chọn vào chữ cái (A, B, C) trước câu trả lời đúng:

 **Câu 1:** Có 4 quả cam và 28 quả quýt.
Hỏi số quả quýt gấp mấy lần số quả cam?

- A. 7 lần B. 112 lần C. 28 lần

 **Câu 2:** $5\text{m } 4\text{dm} = \dots \text{dm}$. Số thích hợp điền vào chỗ chấm là:

- A. 504 B. 540 C. 54


 **Câu 3:** Đồng hồ chỉ mấy giờ?




- A. 10 giờ 10 phút
B. 1 giờ 50 phút
C. 2 giờ 50 phút

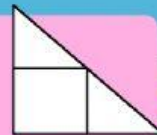
 **Câu 4:** Kết quả của phép tính:
 $603 + 147$ là:

- A. 740 B. 750 C. 760

 **Câu 5:** Giá trị của x trong phép tính
 $x : 7 = 4$

- A. 28 B. 26 C. 30

 **Câu 6:** Hình bên có bao nhiêu góc vuông?



- A. 4 B. 5 C. 6

Bài 1: Đặt tính rồi tính

$$\begin{array}{r} 207 \\ \times 3 \\ \hline \end{array}$$

$$\begin{array}{r} 696 \overline{) 3} \\ \hline \\ \hline \\ \hline \\ \hline \end{array}$$

Bài 2: Tìm x

$$x \times 3 = 69$$

$$x =$$

$$x =$$

Bài 3: Tính

$$40 : 4 + 97 =$$

=

