



EL RELOJ

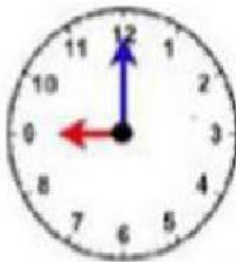
Arrastre cada número que lee el minuterero al lugar que le corresponde:



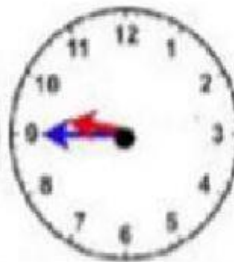
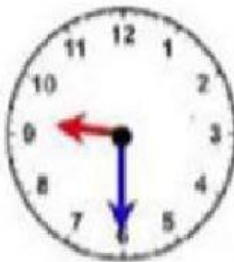
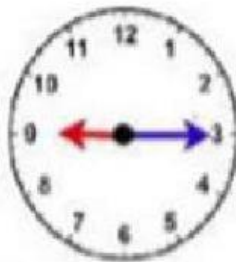
10	50	40	15	30	45
25	05	55	00	20	35



Escriba la hora que marca cada reloj: mire el ejemplo.



9:00



Una con líneas cada reloj de manecillas con el reloj digital que marca la misma hora.



8:45



9:30



6:00



2:15