





التعلم المستقل

اُكْتُبْ عَدَدَ الْمِئَاتِ وَالْعَشْرَاتِ وَالْأَحَادِ.


1.  _____ مِئَاتٌ = _____ عَشْرَاتٍ = _____ أَحَادٍ

2.  _____ مِئَاتٍ = _____ عَشْرَاتٍ = _____ أَحَادٍ


اُكْتُبْ عَدَدَ الْعَشْرَاتِ وَالْمِئَاتِ.

3. 500 أَحَادٍ = _____ عَشْرَاتٍ = _____ مِئَاتٍ

4. 600 أَحَادٍ = _____ عَشْرَاتٍ = _____ مِئَاتٍ

5.  _____ مِئَاتٍ = _____ عَشْرَاتٍ = _____ أَحَادٍ

6.  _____ مِئَاتٍ = _____ عَشْرَاتٍ = _____ أَحَادٍ

7.  _____ مِئَاتٍ = _____ عَشْرَاتٍ = _____ أَحَادٍ



التعلم المستقل

اكتب عدد العشرات والمئات.

8. 800 آحاد = _____ عشرات = _____ مئات

9. 700 آحاد = _____ عشرات = _____ مئات

اكتب عدد المئات والعشرات أو الآحاد.

10. 500 = _____ عشرات || 200 = _____ آحاد

12. 400 = _____ مئات | 300 = _____ عشرات



التعلم المستقل

14. لدى ليلي مجموعة من الفلوس. وضعتهم في 30 كومة من 10 فلوس. فكَم عدد المئات من الفلوس لديها؟

مئات _____



15. وضع خلف مجموعة من الصخور في 20 كومة من 10 صخور. فكَم عدد الأحاد التي لديه؟

16. عدد رابض 300 ورقة على شجرة. فكَم عدد العشرات التي قام بقدها؟