

**4** Mỗi con vật che dấu phép tính nào (+, -) ?



a) 76  20 = 96

b) 0  51 = 51

76  20 = 56

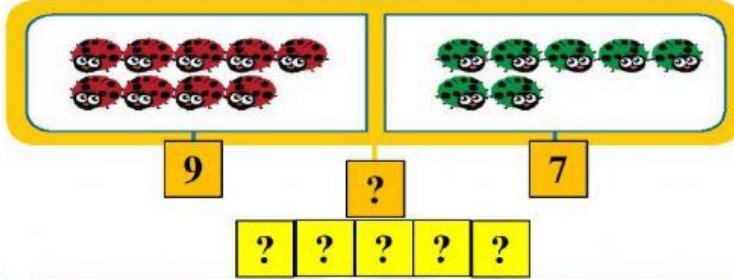
83  83 = 0

42  0 = 42

c) 35  19 = 19  35

**5** Viết phép tính tìm số con bọ rùa được hỏi ở mỗi hình vẽ sau.

a)



b)

