

# ใบงานวิชาคณิตศาสตร์ ชั้นประถมศึกษาปีที่ 6

หน่วยที่ 9 รูปเรขาคณิตสามมิติ (มฐ. ค 2.2 ป.6/3)

เรื่อง ลักษณะและส่วนต่าง ๆ ของรูปเรขาคณิตสามมิติ



คะแนน

10

ชื่อ ..... ชั้น ป.6/..... เลขที่ .....



คำชี้แจง : จงบอกชนิด จำนวนหน้าตัดหรือฐาน และจำนวนหน้าข้างของรูปเรขาคณิตสามมิติ



1



ชนิด .....

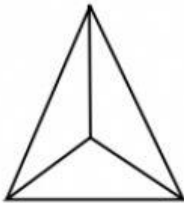
ลักษณะของหน้าตัดหรือฐาน .....

จำนวนหน้าตัดหรือฐาน ..... หน้า

ลักษณะของหน้าข้าง .....



2



ชนิด .....

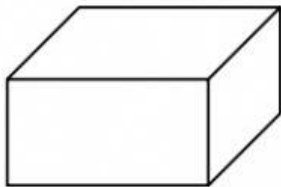
ลักษณะของหน้าตัดหรือฐาน .....

จำนวนหน้าตัดหรือฐาน ..... หน้า

ลักษณะของหน้าข้าง .....



3



ชนิด .....

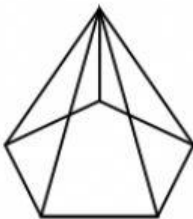
ลักษณะของหน้าตัดหรือฐาน .....

จำนวนหน้าตัดหรือฐาน ..... หน้า

ลักษณะของหน้าข้าง .....



4



ชนิด .....

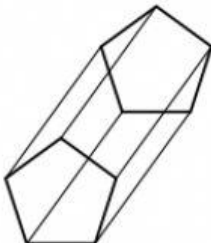
ลักษณะของหน้าตัดหรือฐาน .....

จำนวนหน้าตัดหรือฐาน ..... หน้า

ลักษณะของหน้าข้าง .....



5



ชนิด .....

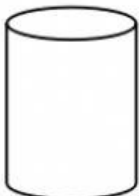
ลักษณะของหน้าตัดหรือฐาน .....

จำนวนหน้าตัดหรือฐาน ..... หน้า

ลักษณะของหน้าข้าง .....



6



ชนิด .....

ลักษณะของหน้าตัดหรือฐาน .....

จำนวนหน้าตัดหรือฐาน ..... หน้า

ลักษณะของหน้าข้าง .....

