




NAMA LENGKAP

KELAS

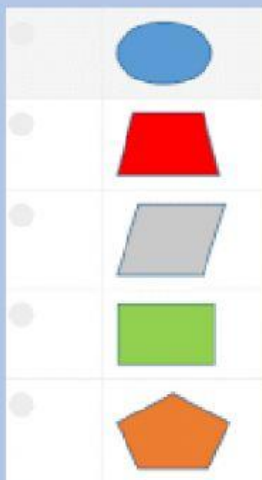
NO. ABSEN

1. Pilihan Ganda Kompleks

Perhatikan gambar kartu-kartu berisi bilangan di bawah ini!



Desi ingin mengambil beberapa kartu bilangan yang nilai angka satuannya lebih kecil dari 5. Kartu-kartu apa saja yang dapat diambil oleh Desi?



2. Uraian


Perhatikan gambar mobil-mobil berikut!



Jika Budi ingin jumlah mobil merah menjadi $\frac{1}{4}$ bagian dari jumlah mobil keseluruhan, berapa mobil putih yang harus Budi warnai menjadi merah?

3. Pilihan Ganda

Perhatikan gambar kartu-kartu bilangan berikut!



Kartu bilangan tersebut bila diurutkan dari bilangan yang terkecil hingga terbesar adalah...

- A.
- B.
- C.
- D.

4. Uraian Tertutup

Berapakah bilangan yang tepat untuk mengisi titik-titik berikut ?

$$\begin{array}{r} 4 \quad 7 \quad 3 \\ \dots \quad \dots \quad \dots \quad + \\ \hline 7 \quad 8 \quad 1 \end{array}$$

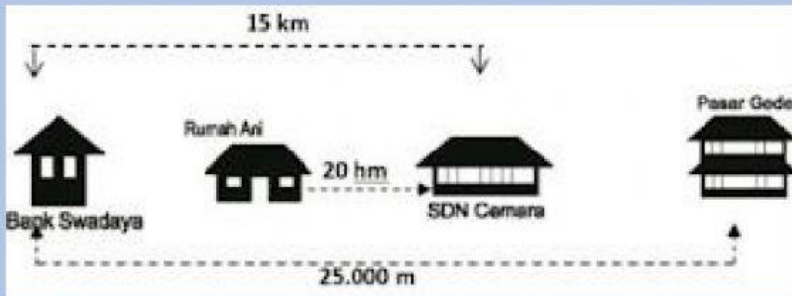
5. Uraian Tertutup

Perhatikan garis bilangan berikut!



Bilangan pada Kotak berturut-turut dari kiri ke kanan adalah...dan...

6. Pilihan Ganda

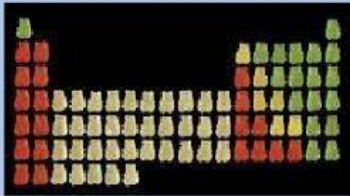


Berapa kilometer jarak dari Bank Swadaya ke pasar Gede?

- A. 0,25 km
- B. 2,5 km
- C. 25 km
- D. 250 km

7. Pilihan Ganda

Gambar di bawah ini menunjukkan susunan permen jeli berbentuk boneka.



Pada gambar terdapat permen jelly warna merah, hijau, kuning, dan putih.

Budi makan 2 buah permen jeli warna merah. Pernyataan berikut yang benar adalah

...

- A. Banyak permen warna putih lebih dari banyaknya sisa permen warna merah + banyaknya permen warna hijau.
- B. Sisa permen warna merah kurang dari banyaknya permen warna putih -banyaknya permen warna hijau.
- C. Sisa permen warna merah kurang dari banyaknya permen warna hijau.
- D. Sisa permen warna merah sama dengan banyaknya permen warna hijau.

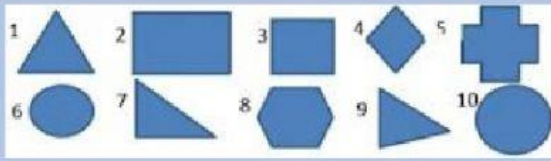
8. Pilihan Ganda

Perhatikan gambar berikut!




Berapa banyak apel yang perlu ditambahkan agar timbangan di kanan menjadi setimbang ?

9. Pilihan Ganda Kompleks
Perhatikan gambar-gambar di bawah ini!



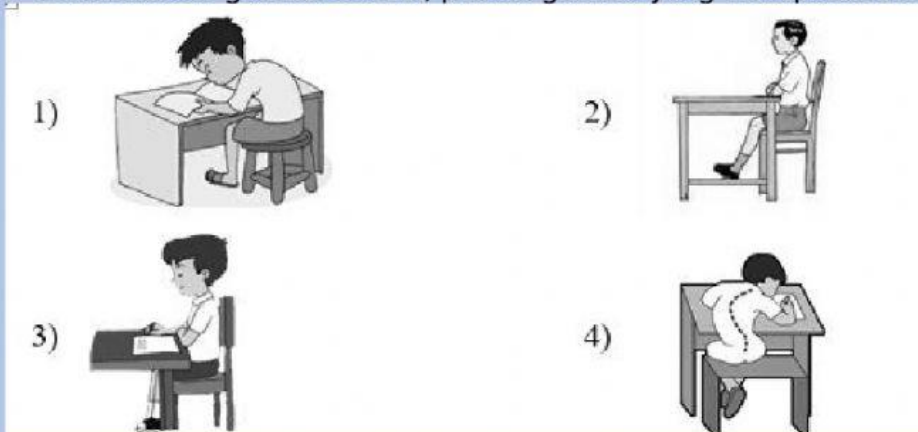
- A. Manakah pernyataan yang sesuai dengan gambar diatas?
- B. Bangun persegi panjang ditunjukkan nomor 1, 4, dan 6
- C. Bangun persegi ditunjukkan nomor 4, 5, dan 8
- D. Bangun segitiga ditunjukkan oleh nomor 1, 7, dan 9
- E. Bangun segi banyak ditunjukkan oleh nomor 3, 4, dan 6
- F. Bangun segi empat ditunjukkan oleh nomor 2, 3, dan 4

10. Perhatikan gambar berikut kemudian geserlah nama bagian tubuh ke atas nomor gambar yang sesuai!



- rambut
- kaki
- tangan
- telinga
- mata

11. Perhatikanlah gambar berikut, pilihlah gambar yang merupakan sikap duduk yang benar!



12. Tariklah garis untuk menghubungkan Kotak A dan Kotak B, sehingga menemukan jawaban yang tepat!



Musyawarah untuk mencapai mufakat diliputi oleh semangat kekeluargaan.

Mengembangkan sikap saling mencintai sesama manusia.

Menjaga keseimbangan antara hak dan kewajiban

Mengembangkan rasa cinta kepada tanah air dan bangsa.

Manusia Indonesia percaya dan takwa terhadap Tuhan Yang Maha Esa



SIMAKLAH VIDEO BERIKUT INI!



Ceritakan secara singkat dongeng yang kamu simak tadi!

TERIMA KASIH