


EXAMEN FINAL DE RAZONAMIENTO MATEMÁTICO

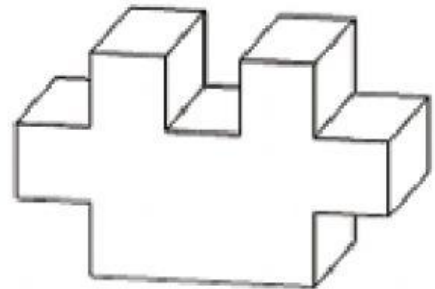
Hijo(a) del Rey: _____ Grado: _____
 Profesora: Cindya Condor Moreno Fecha: 21/12/21


 NOTA

1. Completa y determina. ¿Cuántas caras tiene las siguientes figuras?

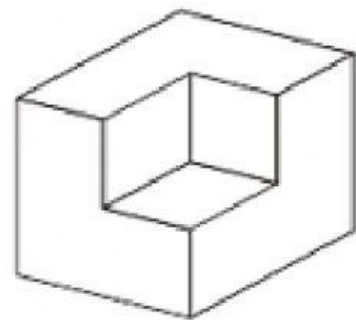
a)

F	P	S	I	LI	LD	TOTAL



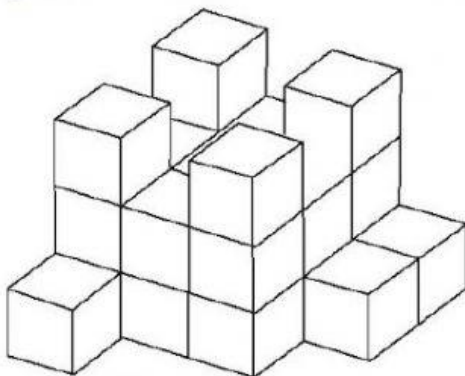
b)

F	P	S	I	LI	LD	TOTAL



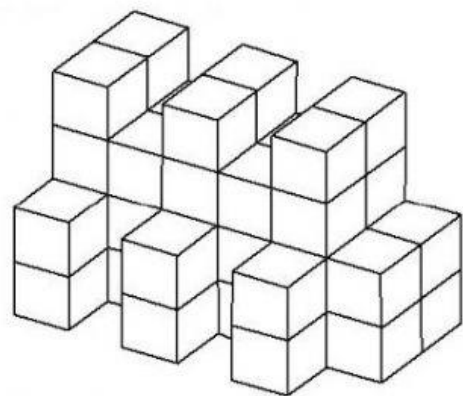
2. Determina el total de cubos que hay en las siguientes estructuras:

a)



TOTAL:

c)



TOTAL:

3. Por una escalera suben cinco personas. Sabemos que Flavio va arriba de Carlos, Luis, arriba de Erick; Oscar, debajo de Erick; y Luis, debajo de Carlos. ¿Quién está al centro de la escalera?

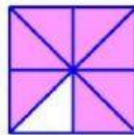
4. En una carrera participan cuatro estudiantes. Si Benito llegó antes que Ángel, Daniel antes que Benito y Carlos llegó último. ¿Quién llegó en tercer puesto?


5. ¿Qué relación tiene conmigo la mamá del hermano de mi padre?

6. ¿Qué relación familiar tengo con la hermana de mi papá?

7. Escribe las fracciones:







8. Escribe como se lee:

