



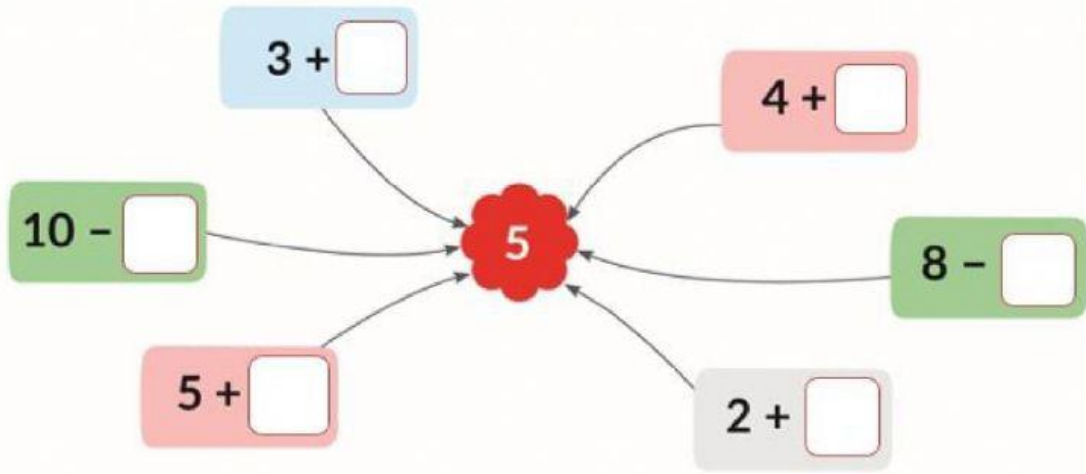
# 1. Số ?

Đố các bạn những con ong nào ghi phép tính có kết quả bằng 4?






## 2. Số ?





luyện tập

# 1. Số ?



$$\square + \square = \square$$



## 2. Số ?



--	--	--	--	--



### 3. Điền dấu >, <, =

a)

$9 \square 4 + 1$

$8 \square 10 - 2$

$7 \square 2 + 6$

b)

$3 + 4 \square 7$

$7 + 2 \square 8$

$10 - 2 \square 7$

# 4. Số ?

