

ชื่อ-สกุล..... ชั้น..... เลขที่.....

เรื่อง ความจุของภาชนะเป็นลิตร

คำชี้แจง เติมคำว่า ปริมาตร หรือ ความจุ และเติมคำตอบ

1



น้ำมันพืชเต็มขวด ตวงได้ 3 ลิตร

น้ำมันพืชมี 3 ลิตร

ขวดนี้มี 3 ลิตร

2



น้ำมันเต็มถัง ตวงได้ 35 ลิตร

น้ำมันมี 35 ลิตร

ถังนี้มี 35 ลิตร

3



น้ำผึ้งเต็มโถ ตวงได้ 2 ลิตร

น้ำผึ้งมี 2 ลิตร

โถนี้มี 2 ลิตร

คำชี้แจง เติมคำว่า มากกว่า น้อยกว่า หรือเท่ากับ

1



นมเต็มกล่อง ตวงได้ 3 ลิตร

แสดงว่า กล่องเปล่านี้มีความจุ 3 ลิตร

2



น้ำเชื่อมในเหยือก ตวงได้ 2 ลิตร

แสดงว่า เหยือกใบนี้มีความจุ 2 ลิตร

3




เทน้ำส้ม 1 ลิตร ลงในแก้ว มีน้ำส้มล้นแก้วออกมา


แสดงว่า แก้วใบนี้มีความจุ 1 ลิตร


เรื่อง การเปรียบเทียบความจุของภาชนะ


คำชี้แจง เขียน ✓ ใน


1  โถมีน้ำเชื่อมเต็มขวด ใช้ทำขนมจนหมดโถ

 มีความจุ มากกว่า น้อยกว่า เท่ากับ

2  เทน้ำสับปะรด 3 ลิตร ใส่ขวดจนเต็มขวด แต่ยังมีน้ำสับปะรดเหลือในเหยือก

 มีความจุ มากกว่า น้อยกว่า เท่ากับ

3  ถ้วยที่มีความจุ 2 ลิตร เทน้ำใส่จนเต็ม แล้วนำไปเทใส่น้ำในถังได้ไม่เต็มถัง

 มีความจุ มากกว่า น้อยกว่า เท่ากับ

4



ถังน้ำมีความจุ 5 ลิตร



ถังน้ำมันมีความจุ 15 ลิตร



ความจุ มากกว่า น้อยกว่า



..... ลิตร

5



โถมีความจุ 4 ลิตร



ถ้วยมีความจุ 2 ลิตร



ความจุ มากกว่า น้อยกว่า



..... ลิตร