






## 16.5 ÔN TẬP VỀ ĐẠI LƯỢNG



	1	2	3	4	5
<b>a</b>	Điền số vào chỗ trống:  5 tấn 2 tạ = ..... kg	Tháp Eiffel được bắt đầu xây dựng vào năm 1887. Năm đó thuộc thế kỉ nào?	Điền đơn vị thích hợp:   = 2 .....	Điền số vào chỗ trống:  15 tạ 10 yến = ..... yến	Điền số vào chỗ trống:  10 yến 5 kg = ..... kg
<b>b</b>	Điền đơn vị thích hợp: Máy ảnh Fujifilm Instax Mini 9   = 307 .....	Điền số vào chỗ trống:  100 tạ = ..... tấn	Điền số vào chỗ trống:  400 yến = ..... tấn	Điền số vào chỗ trống:  10 tạ 20 kg = ..... kg	Điền dấu >, < hoặc = vào chỗ trống:  10 giờ ..... 599 phút

## 16.5 ÔN TẬP VỀ ĐẠI LƯỢNG



	1	2	3	4	5
<b>c</b>	Điền số vào chỗ trống: 10 tấn - 10 tạ = ..... tạ	Lý Chiêu Hoàng - vị vua cuối cùng của triều Lý lên ngôi năm 1225. Năm đó thuộc thế kỉ nào?	Điền dấu >, < hoặc = vào chỗ trống: 3 giờ ..... 180 phút	Điền đơn vị thích hợp: Vương miện của nữ hoàng Anh  = 1300 .....	Điền số vào chỗ trống: 10 tạ 3 yến = ..... yến
<b>d</b>	Điền số vào chỗ trống: $\frac{1}{8}$ ngày = ..... giờ	Điền số vào chỗ trống: $\frac{1}{6}$ phút = ..... giây	Điền dấu >, < hoặc = vào chỗ trống: 25 giờ ..... $\frac{1}{7}$ tuần	Điền số vào chỗ trống: 15000 g = ..... kg	Điền đơn vị thích hợp: 10 chiếc bánh quy  = 150 .....
<b>e</b>	Điền số vào chỗ trống: $\frac{1}{8}$ ngày = ..... phút	Điền đơn vị thích hợp: Một quả dưa bình thường  = 500 .....	Chúng ta đang sống ở thế kỉ nào?	Điền dấu >, < hoặc = vào chỗ trống: $\frac{1}{5}$ giờ ..... 10 phút	Điền số vào chỗ trống: $\frac{1}{4}$ thế kỉ = ..... năm