

RECORDA D-U-C

ARROSSEGA AL SEU
LLOC

8.295

341

429

Tres-cents
quaranta-u

Quatre-cents
vint-i-nou

Vuit mil dos-
cents noranta-
cinc

831

3514

231

Dos cents
trenta-u

Vuit-cents trenta-u

Tres mil cinc-
cents catorze

UNEIX AMB FLETXES

Tres-cents cinquanta- dos

472

Quatre-cents setanta- dos

808

Vuit-cents vuit

9.122

Nou mil cents vint-i-dos

352

ARROSSEGA I ORDENA DE MÉS PETIT A MÉS GRAN

2.345

589

289

923


ARROSSEGA I ORDENA DE MÉS GRAN A MÉS PETIT

561

1.813

918

834



PICA L'OPCIÓ CORRECTA

6.320

3DM+6C
+2D+0U

6UM+3C
+2D+0U

6DM+3C
+2D+0U

845

$5C+4D+8U$

$8C+3D+1U$

$8C+4D+5U$

591

$5C+9D+1U$

$5UM+3C$
 $+1D+9U$

$9C+1D+5U$

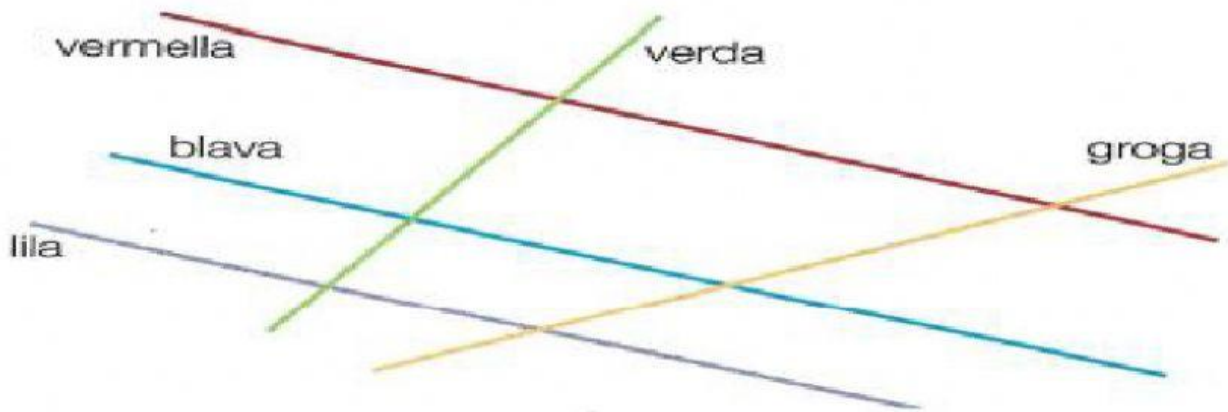
547

$4UM+5C$
 $+8D+2U$

$7C+4D+5U$

$5C+4D+7U$

OBSERVA LES RECTES I ESCRIU SI SÓN PARAL·LELES (P) O SECANTS (S)



La recta vermella i la verda

P

S

La recta groga i blava

P

S

La recta vermella i blava

P

S

La recta blava i la lila

P

S

UNEIX AMB FLETXES



**TRES QUARTS MENYS
CINC DE SIS**



**DOS QUARTS I CINC
DE DEU**



**DOS QUARTS MENYS
CINC DE VUIT**

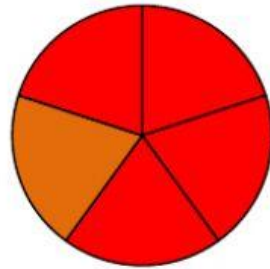


**TRES QUARTS I CINC
DE DOTZE**

PICA L'OPCIÓ CORRECTA

$$\frac{4}{5} \begin{array}{l} \text{DENOMINADOR} \\ \text{NUMERADOR} \end{array}$$

$$\frac{4}{5} \begin{array}{l} \text{NUMERADOR} \\ \text{DENOMINADOR} \end{array}$$



$$\frac{4}{6}$$

$$\frac{5}{4}$$

$$\frac{4}{5}$$

NUMERADOR

EL NOMBRE DE PARTS IGUALS
EN QUÈ ES DIVIDEIX LA PIZZA

EL NOMBRE DE PORCIONS DE
PIZZA QUE MENJO

DENOMINADOR

EL NOMBRE DE PARTS IGUALS
EN QUÈ ES DIVIDEIX LA PIZZA

EL NOMBRE DE PORCIONS DE
PIZZA QUE MENJO

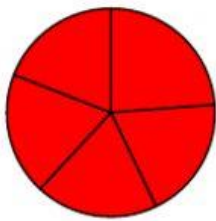
UNEIX AMB FLETXES



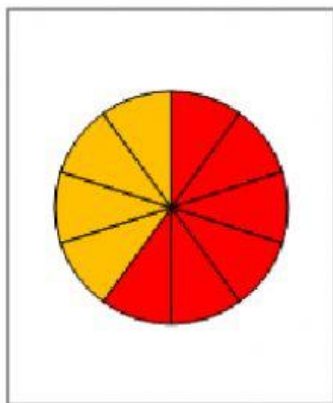
$$\frac{6}{10}$$



$$\frac{3}{7}$$



$$\frac{1}{9}$$



$$\frac{5}{5}$$