

Matemática

1º Ano

1- Completa a grelha de números até 20.

1			4	
	7			10
			14	
	17			20

2- Uma galinha começou a chocar uma dúzia de ovos. 3 ovos caíram do ninho.

Quantos pintos nasceram?

$$\square - \square = \square$$



Nasceram pintos.

Quantos pintos faltam para uma dezena?

12




9

1

3

9

3- As rãs vão pular até aos nenúfares que têm resultado igual ao seu número. Faz as ligações



• $7-2$



• $6-5$



• $2+2+3$



• $4+3$



• $1+5$



• $6-3$

