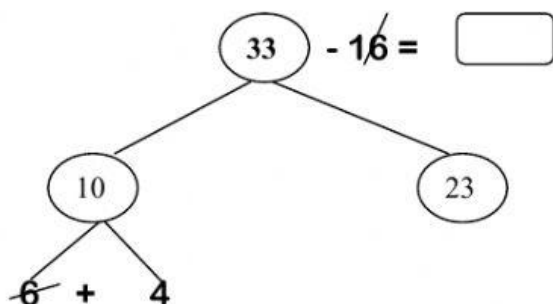




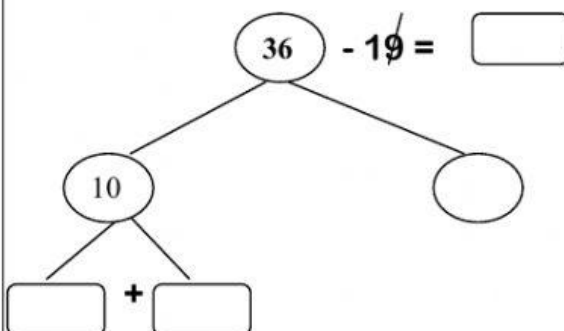
Nombre: \_\_\_\_\_ Curso: \_\_\_\_\_

**ALGORITMO DE RESTA "EL ÁRBOL". NIVEL 3.1. SEGUIMOS LOS PASOS:**

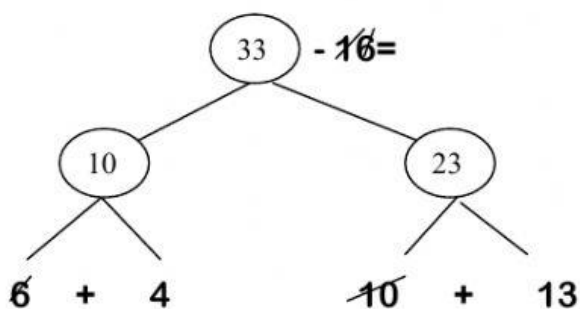
**PRIMERO:** descomponemos el 33 en un 10 + el resto para sacar 6.



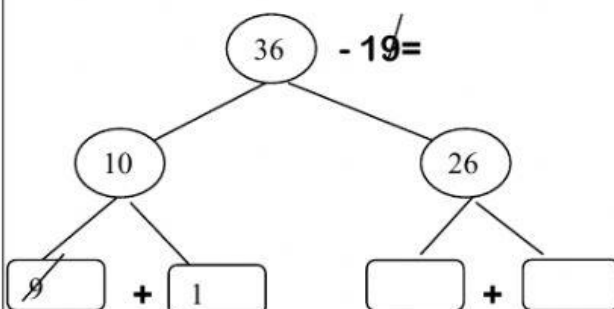
**PRIMERO:** descomponemos el 36 en un 10 + el resto para sacar 9.



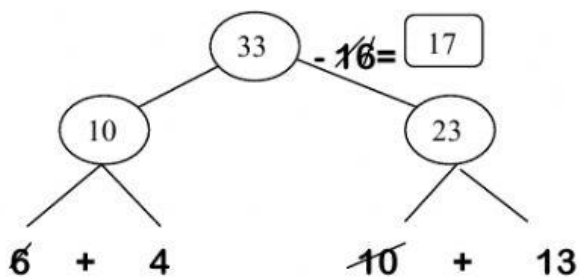
**SEGUNDO:** descomponemos el 23 en 10 + el resto para sacar el 10.



**SEGUNDO:** descomponemos el 26 en 10 + el resto para sacar el 10.

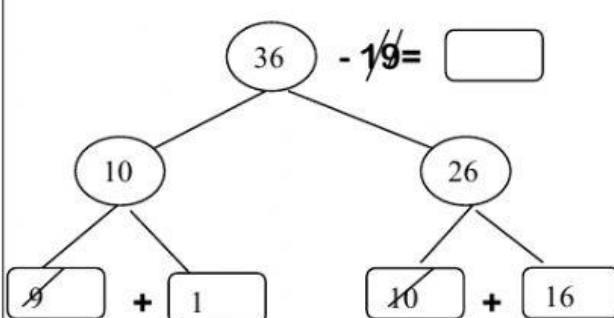


**TERCERO:** conteo final.



$$13 + 4 = 17$$

**TERCERO:** conteo final.



**¡ FELICIDADES POR TU TRABAJO!!**