




Họ và tên:Lớp:

TOÁN 5 – TUẦN 13 – TIẾT 4 LUYỆN TẬP – TRANG 64

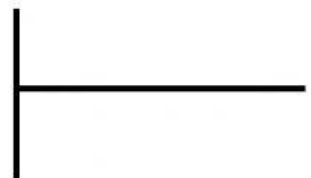
Nhận xét của giáo viên:

Câu 1: Đặt tính rồi tính:

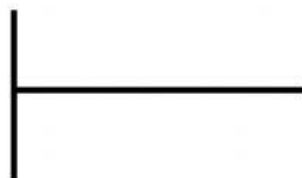
$$67,2 : 7$$



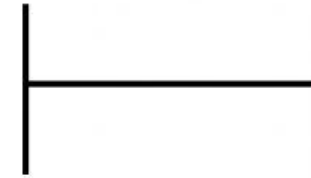
$$3,44 : 4$$



$$42,7 : 7$$




$$46,827 : 9$$




Câu 2: Đặt tính rồi tính:

$$26,5 : 25$$



$$12,24 : 20$$



Câu 3: Có 8 bao gạo cân nặng 243,2 kg. Hỏi 12 bao gạo như thế cân nặng bao nhiêu ki-lô-gam?