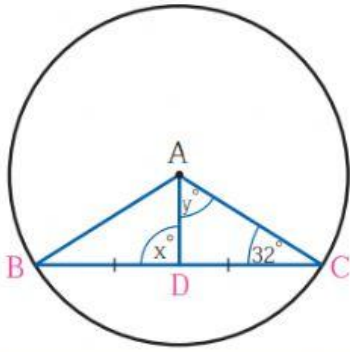


ใบงาน คอร์ดของวงกลม

คำสั่ง : จากวงกลมที่กำหนดจุดศูนย์กลางมาให้ จงหาค่า  $x$  และ  $y$

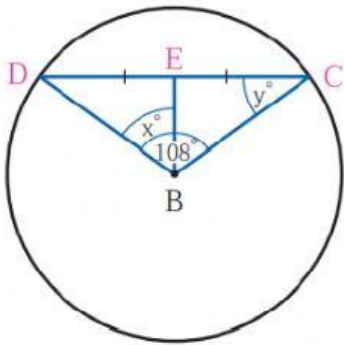
1.



$x$  คือ .....

$y$  คือ.....

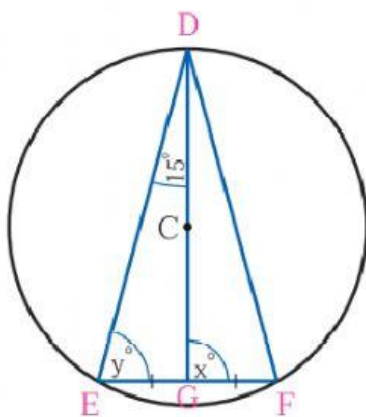
2.



$x$  คือ .....

$y$  คือ.....

3.



$x$  คือ .....

$y$  คือ.....