

Bạn tên là:

Toán

Ôn tập tuần 14



KHU VƯỜN BỐN MÙA

Chào mừng bạn đến với vùng đất của những loại trái cây. Hãy mang về cho mình thật nhiều quả ngon bằng cách thực hiện chính xác thử thách Toán học dưới đây nhé!

1. Góc mùa xuân: Nối các biểu thức có giá trị bằng nhau.



$125 : 4 \times 32$

$(560 \times 10) : 8$



$(125 \times 4) \times 32$

$(32 \times 4) \times 125$



$560 : 8 : 10$

$560 : (8 \times 10)$



$560 : 8 \times 10$

$32 \times 125 : 4$



2. Góc mùa hạ: Kéo kết quả với phép tính phù hợp:

5264

3266

2356

3265



$18\ 848 : 8$





$47\ 376 : 9$





$22\ 855 : 7$

3. Góc mùa thu: Tính:


$$\begin{array}{r} 328 \\ \times 125 \\ \hline \end{array}$$


$$\begin{array}{r} 1024 \\ \times 263 \\ \hline \end{array}$$


$$\begin{array}{r} 38640 \\ | 5 \\ \hline \end{array}$$


$$\begin{array}{r} 789\ 463 \\ | 6 \\ \hline \end{array}$$

4. Góc mùa đông:

a. Tìm y:

$$y \times 4 = 7292$$



b. Tính nhanh:

$$128 : 4 + 872 : 4$$



5*. Thử thách cho em: Điền vào chỗ trống:



+



$$= 102$$



+



$$= 231$$



+



$$= 177$$

Trung bình mỗi loại có
quả

Em thích dạng bài tập Toán ở góc có quả nào nhất:



quả lựu



quả xoài



quả
thanh long



quả lê