






PEMERINTAH KABUPATEN PASURUAN
DINAS PENDIDIKAN
PENILAIAN AKHIR SEMESTER GANJIL TAHUN PELAJARAN 2021-2022

Hari/Tanggal :
Mata Pelajaran : SENI BUDAYA

Kelas : VIII (Delapan)
Waktu : 90 menit


A. Pilihlah jawaban yang paling benar dari pilihan yang disediakan!

1.  Lingkungan di sekitar kita banyak yang dapat kita jadikan objek menggambar model. Salah satunya adalah gambar bentuk di samping ini. Setelah kalian amati, termasuk objek bentuk apakah gambar tersebut ?
 - a. Bentuk bebas
 - b. Bentuk piramida
 - c. Bentuk kubistis
 - d. Bentuk silindris
2. Salah satu unsur pendukung gambar bentuk yang berfungsi menjadikan gambar terlihat lebih nyata atau realis adalah...
 - a. Garis dan bidang
 - b. Bentuk dan tekstur
 - c. Bidang dan goresan
 - d. Gelap terang dan pencahayaan
3. Beberapa prinsip yang harus diperhatikan dalam menggambar model salah satunya adalah komposisi. Komposisi merupakan prinsip menggambar model yang mengatur ...
 - a. Letak objek
 - b. Banyaknya objek
 - c. Ukuran objek
 - d. Besar kecil objek
4.  Komposisi merupakan cara menyusun dan mengatur objek yang digunakan sebagai model gambar sehingga hasilnya tampak menarik dan indah. Ada Komposisi Simetris, komposisi Asimetris dan komposisi Sentral . Gambar di samping dapat kita simpulkan kedalam komposisi...
 - a. Komposisi Asimetris
 - b. Komposisi Simetris
 - c. Komposisi Sentral
 - d. Komposisi terpusat
5. Perhatikan data di bawah ini!
 1. Memberikan kesan gelap terang pada setiap bagian objek
 2. Membuat detail pada setiap objek
 3. Mempersiapkan objek gambar yang akan digambar
 4. Membuat sketsa
 5. Memperjelas setiap bagian objek dengan warna yang sesuai modelUrutan tahapan menggambar model alam benda dengan benar adalah ...
 - a. 3-4-1-5-2
 - b. 3-4-1-2-5
 - c. 4-2-5-3-1
 - d. 4-3-2-1-5
6.  Gambar di samping merupakan hasil karya menggambar model dengan menggunakan teknik, ...
 - a. Teknik arsir
 - b. Teknik dussel
 - c. Teknik blok
 - d. Teknik pointilis

7. Untuk memenuhi tugas seni budaya selama pembelajaran daring, Beni menggambar dengan tema lingkungan sekitar rumah. Hasil gambar yang dihasilkan Beni berupa gambar rumah dengan menggunakan media basah agar menghasilkan warna yang transparan. Teknik gambar apakah yang digunakan oleh Beni ?
- Dussel
 - Aquarel
 - Arsir
 - Pointilis


8. Pernyataan yang tepat dari pilihan gambar di bawah ini adalah!

	Karya gambar	Teknik yang digunakan	Alat & Bahan
a		Teknik Arsir	Pensil, pena, cat akrilik, kanvas
b		Teknik Plakat	Tinta, konte, spidol, kanvas
c		Teknik Dussel	Pensil, konte, pena, kertas
d		Teknik Pointilis	Pensil warna, cat air, kertas

9.  setelah kalian mengamati gambar di samping, temukanlah alat dan bahan yang digunakan !



10. Perlu juga diperhatikan bahwa menggambar model membutuhkan kemampuan dalam menggunakan unsur-unsur seni rupa. Pemahaman terhadap unsur tersebut sangat membantu dalam menggambar model. Salah satu unsur yang memberi rasa bahan atau permukaan suatu benda disebut dengan... .
- Kulit
 - Sentuhan
 - Tekstur
 - Indra peraba
11. Keserasian dalam pengaturan objek gambar sehingga benda-benda yang diatur satu sama lain memiliki kesan ruang, kedalaman dan antar objek gambar saling mendukung sehingga akan menghasilkan gambar yang baik. Dapat disimpulkan bahwa deskripsi di atas merupakan prinsip
- Proporsi
 - Komposisi
 - Kesatuan
 - Keseimbangan
12. Hasil dari menggambar Model dapat dikatakan bagus dan ideal apabila... .
- Mendekati kemiripan rupa objek yang digambar
 - Mengutamakan imajinasi
 - Berdasarkan perspektif
 - Mengutamakan pewarnaan

13.  Alat dan bahan yang paling tepat untuk menghasilkan karya gambar di samping adalah

- Cat air dan kanvas
- Cat air dan kertas
- Tinta bak dan kertas
- Cat minyak dan kanvas

14. Ilustrasi merupakan jenis kegiatan menggambar yang membutuhkan ketrampilan menggambar bentuk. Agar gambar tersebut mudah dipahami, bentuk/ objek yang digambar harus dapat... .

- Memperjelas, mempertegas, merumitkan
- Membingungkan, memperindah, komunikatif
- Komunikatif, mempertegas, memperjelas
- Memperkaya suatu cerita dan sedikit membingungkan

15. Perhatikan gambar ilustrasi berikut ini!



Selain memiliki fungsi utama dalam menghidupkan suatu cerita dan memberikan bayangan pada setiap karakter didalam sebuah cerita, gambar ilustrasi juga memiliki beberapa fungsi yang lain. Memiliki fungsi apakah gambar ilustrasi tersebut diatas ?

- Mengkomunikasikan cerita
- Memberikan bayangan langkah kerja
- Menerangkan konsep
- Memberikan humor-humor pada gambar

16. Program aplikasi yang digunakan untuk membuat gambar ilustrasi dengan menggunakan cara hibrid adalah

- Adobe Photo Shop, MS Word, Power Point
- Snipping Tool, Power Point, CorelDRAW
- CorelDRAW, Adobe Illustrator, Macromedia Freehand
- Microsoft Office Word, Microsoft Excel, Adobe Photo Shop

17. Ilustrasi digital adalah ilmu yang mempelajari tentang bagaimana mengeksplorasi kemampuan kreatifitas program komputer untuk membuat seni visual berupa ilustrasi dan memperbaiki ilustrasi. Gambar Vektor dan gambar Bitmap merupakan gambar yang dihasilkan dari proses digital tersebut. Pernyataan yang tepat mengenai gambar Vektor dan gambar Bitmap terdapat pada kolom... .

	Gambar Vektor	Gambar Bitmap
a	Gambar yang tergantung pada resolusi	Gambar yang tidak tergantung pada resolusi
b	Gambar yang tidak tergantung pada resolusi	Gambar yang dibentuk oleh sekumpulan titik/pixel
c	Gambar yang dibentuk oleh sekumpulan titik	Gambar yang akan terlihat utuh apabila dilihat dari jauh
d	Gambar mengalami perubahan apabila dibesarkan atau dkecilkan	Gambar tidak mengalami perubahan apabila dibesarkan atau dkecilkan

18. Disajikan data !

- 1) Menampilkan sketsa pada komputer
- 2) Menggambar digital dengan aplikasi pengolah gambar
- 3) Mewarnai dan membuat detail gambar ilustrasi
- 4) Men-scan sketsa gambar manual dan disimpan kedalam hardisk komputer

Dalam pembuatan gambar ilustrasi kombinasi antara manual dan digital, langkah awal adalah membuat sketsa secara manual. Setelah sketsa manual selesai, langkah selanjutnya adalah... .

- a. 1, 2, 3, dan 4
- b. 1, 3, 2, dan 4
- c. 4, 1, 2, dan 3
- d. 4, 2, 1, dan 3

19. Pensil merupakan salah satu alat yang perlu dipersiapkan dalam menggambar ilustrasi. Berikut ini jenis pensil dan fungsi pensil yang tepat adalah

- a. 2H jenis pensil tebal ; berfungsi untuk membuat garis tajam dan detail
- b. 2B jenis pensil setengah tebal ; berfungsi untuk membuat sketsa
- c. 4B jenis pensil tipis ; berfungsi menggambar garis bantu
- d. HB jenis pensil sangat tebal ; membuat bayangan lebih gelap

20.



Dari beberapa jenis gambar iustrasi. Gambar di samping merupakan jenis gambar ilustrasi

- a. Gambar kartun
- b. Gambar karikatur
- c. Gambar vignette
- d. Cerita bergambar

21. Pada saat menggambar ilustrasi ada beberapa teknik yang dapat kita gunakan, salah satu caranya adalah menggambar dengan memanfaatkan transisi warna dari terang ke gelap dengan menggunakan tinta atau cat yang agak encer. Cara ini disebut teknik

- a. Teknik Dot
- b. Teknik Half Tone
- c. Teknik Goresan kering
- d. Teknik Srcaper Board

22.



Ada beberapa macam jenis gambar ilustrasi. Gambar di samping ini merupakan jenis gambar ilustrasi... .

- a. Ilustrasi cerita
- b. Karikatur
- c. Komik strip
- d. Ilustrasi iklan

23.




Gambar di samping ini merupakan gambar ilustrasi dekoratif yang memiliki fungsi... .

- a. Menerangkan konsep
- b. Mengkomunikasikan cerita
- c. Memberikan bayangan bentuk alat dalam tulisan ilmiah
- d. Mengisi bidang kosong pada kertas narasi atau cerita

24. Banyak jenis kegiatan menggambar, masing-masing punya karakteristik sendiri-sendiri yang membedakan gambar satu dengan lainnya. Kunci utama yang membedakan gambar ilustrasi dengan jenis gambar lain adalah

- a. Menjelaskan isi buku
- b. Menambahkan cerita pada buku
- c. Menambahkan gambar
- d. Memperjelas gambar pada buku

25. Perhatikan gambar di bawah ini!



Media (alat) membuat gambar ilustrasi yang paling efektif dan variatif dalam membuat garis hitam yang kuat/ jelas dan detail pada bagian-bagian gambar adalah... .

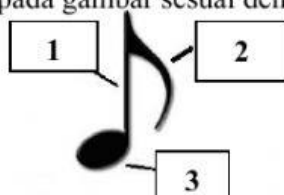
- Kolom A, Kolom B, dan Kolom C
- Kolom B, Kolom D, dan Kolom E
- Kolom C, Kolom E, dan Kolom F
- Kolom D, Kolom G, dan Kolom H

26. Diantara fungsi musik adalah sebagai media rekreatif / hiburan untuk menanggalkan segala macam kepenatan dan kelelahan dalam aktivitas sosial budaya sehari-hari. Sambil bermusik biasanya juga menari sehingga bergembira bersama. Manakah di bawah ini pengertian dari fungsi musik sebagai pengiring tari?
- Musik daerah dianggap memiliki kekuatan magis sehingga musik daerah sering terlibat dalam berbagai upacara adat
 - Lagu-lagu rakyat (folksong) yang tumbuh subur di daerah pedesaan dapat digunakan sebagai media bermain anak-anak
 - Lagu sebagai media penerangan dapat digunakan sebagai iklan layanan masyarakat
 - Irama musik dapat berpengaruh pada perasaan seseorang untuk melakukan gerakan-gerakan indah dalam tari. Pada dasarnya tari daerah hanya bisa diiringi oleh musik daerah tersebut
27. Disajikan data tentang perbedaan wilayah di Indonesia yang memiliki teknik dan gaya bernyanyi masing-masing seperti di bawah ini:

	Nama Daerah	Teknik dan gaya bernyanyi
a.	Papua	Menari sekaligus bernyanyi dan bermain Tifa dalam kelompok
b.	Surabaya	Musik tradisi yang berpenampilan mengenakan pakaian ketat bahkan menggunakan stagen, bernyanyi dengan posisi duduk bersimpuh namun suaranya tetap terdengar merdu dan menarik yang dikenal dengan sebutan mamaos
c.	Jakarta	Sinden adalah sebutan bagi perempuan yang bernyanyi diiringi gamelan
d.	Sunda	Menyanyi dengan diiringi gambang kromong




Dari data di atas tentukan manakah teknik dan gaya bernyanyi yang sesuai dengan nama daerahnya!

28. Mengenal budaya di setiap daerah tidak harus berkunjung ke daerah tersebut. Dari lagu yang diciptakan di setiap daerah bisa diketahui ciri khas daerahnya. Seleksilah! Manakah wilayah yang sesuai dengan nama lagu daerahnya yang benar?
- Sirih Kuning dari Kalimantan Selatan
 - Ampar-Ampar Pisang dari Maluku
 - Pakarena dari Sulawesi Selatan
 - Sarinande dari Kalimantan Selatan
29. Jenis pernafasan yang biasa dilakukan dalam bernyanyi ada tiga, yaitu pernafasan dada, pernafasan perut dan pernafasan diafragma. Jenis pernafasan yang paling bagus dan baik di gunakan ketika kita bernyanyi yaitu
- Pernafasan dada
 - Pernafasan perut
 - Pernafasan diafragma
 - Pernafasan dada dan perut
30. Perhatikan pernyataan yang ada di bawah ini!
- Saat pengambilan napas, bahu tidak terangkat dan tidak tegang
 - Ambil udara dari hidung dan di keluarkan melalui hidung
 - Atur pengeluaran udara rata dan sehemat mungkin, jangan tersendat-sendat
 - Teknik mencuri nafas. Dilakukan jika di tengah frasa lagu nafas tidak kuat
- Tentukan pernyataan yang **tidak** tepat tentang cara bernafas yang baik saat bernyanyi!
- 1
 - 2
 - 3
 - 4
31. Untuk meningkatkan mutu vokal, selain latihan pernafasan juga dibutuhkan latihan teknik vokal. Dari pilihan di bawah ini, manakah yang menyatakan pengertian dari artikulasi?
- | | |
|----|---|
| a. | Pemenggalan kalimat dalam bernyanyi |
| b. | Cara pengucapan kata demi kata yang baik dan jelas |
| c. | Suatu gejala bunyi yang dikembalikan dari suatu ruangan |
| d. | Rendahnya suatu nada yang harus di jangkau dengan tepat |
32. Dari beberapa teknik vokal, salah satunya agar power suara meningkat yang disebut resonansi. Manakah pilihan di bawah ini yang menyatakan pengertian dari resonansi?
- | | |
|----|---|
| a. | Pemenggalan kalimat dalam bernyanyi |
| b. | Cara pengucapan kata demi kata yang baik dan jelas |
| c. | Suatu gejala bunyi yang dikembalikan dari suatu ruangan |
| d. | Rendahnya suatu nada yang harus di jangkau dengan tepat |
33. Salah satu teknik vokal yang ada di bawah ini sangat memengaruhi makna kalimat lagu, yaitu frasering. Manakah pilihan di bawah ini yang menyatakan pengertian dari frasering?
- | | |
|----|---|
| a. | Pemenggalan kalimat dalam bernyanyi |
| b. | Cara pengucapan kata demi kata yang baik dan jelas |
| c. | Suatu gejala bunyi yang dikembalikan dari suatu ruangan |
| d. | Rendahnya suatu nada yang harus di jangkau dengan tepat |
34. Gambar di bawah ini merupakan simbol atau tanda untuk menyatakan tinggi rendahnya suara atau yang biasa kita kenal dengan notasi balok. Notasi balok memiliki nama pada setiap bagian. Coba kalian simpulkan nama-nama dari bagian notasi balok yang di tunjukkan pada gambar sesuai dengan urutannya!



1. Tangkai Not, 2. Kepala Not, 3. Bendera Not
1. Tangkai Not, 2. Bendera Not, 3. Kepala Not
1. Kepala Not, 2. Bendera Not, 3. Tangkai Not
1. Kepala Not, 2. Tangkai Not, 3. Bendera Not

35. Perhatikan tabel yang ada di bawah ini! Tabel di bawah ini merupakan nama tanda diam, letak, bentuk dan nilainya. Tentukanlah nama tanda diam dan nilai yang benar pada nomer 3!

No.	Nama Tanda Diam	Letaknya	Bentuk	Nilai
1.	Penuh (utuh/satu ruas berirama)	Tergantung pada garis ke-4		4 ketukan
2.	Tengahan	Di atas garis ke-3		2 ketukan
3.	Perempatan	Pada spasi ke-2 dan ke-3		1 ketukan
4.	Perdelapanan	Pada spasi ke-2 dan ke-3		1/2 ketukan
5.	Perenambelasan	Pada spasi ke-2 dan ke-3		1/4 ketukan

- Penuh, yang bernilai 4 ketukan
 - Tengahan, yang bernilai 2 Ketukan
 - Perempatan, yang bernilai 1 Ketukan
 - Perdelapanan, yang bernilai 1/2 Ketukan
36. Kebiasaan berbicara yang baik akan memudahkan terhadap aspek artikulasi saat bernyanyi. Artikulasi dapat dipengaruhi oleh beberapa faktor yaitu?
- Pernafasan
 - Sikap Badan
 - Intonasi
 - Improvisasi
37. Masyarakat Sunda menggunakan musik angklung pada waktu menyelenggarakan upacara Seren Taun (panen padi), hal tersebut menunjukkan fungsi musik daerah sebagai... .
- Musik pengiring tari
 - Sarana upacara adat
 - Media bermain
 - Media penerangan
38. Alat musik Nusantara memiliki ragam yang sangat banyak, salah satunya alat music dari Kalimantan yang mirip dengan kecapi yang memiliki tiga utas senar, biasanya digunakan pertunjukkan seni dan upacara adat. Alat ini dinamakan dengan... .
- Serunai
 - Sampe
 - Totobuang
 - Kledi
39. Tiap daerah mempunyai alat musik khas. Kabupaten Pasuruan dengan alamnya yang banyak ditumbuhi bambu mempunyai alat musik dari bambu yang biasa disebut dengan kentongan. Bambu yang bagus untuk kentongan adalah bambu yang... .
- Tua
 - Warnanya kuning
 - Dagingnya tipis
 - Ruasnya panjang
40. Berikut ini nama alat musik tradisional:
- 1) sasando
 - 2) kolintang
 - 3) calung
 - 4) kledi
 - 5) angklung
 - 6) rebab
 - 7) seruling
 - 8) totobuang
- Dari data tersebut di atas yang merupakan alat music berbahan bambu adalah... .
- 1, 3, 8
 - 2, 6, 7
 - 3, 5, 7
 - 4, 6, 8
41. Alat musik ritmis merupakan alat musik yang dipakai dengan fungsi untuk mengatur irama suatu lagu. Dari pengertian tersebut, manakah yang termasuk alat musik ritmis?
- Triangel
 - Pianika
 - Harmonika
 - Piano

42. Kita ketahui bahwa alat musik sangat banyak ragamnya, dan perlu diklasifikasikan agar mudah mengenali dan memahaminya. Ada klasifikasi berdasarkan sumber bunyinya. Salah satunya alat musik aerofone. Dari pilihan di bawah ini, manakah yang merupakan pengertian dari alat musik aerofon?

a.	Alat musik yang sumber bunyinya berasal dari dawai/senar atau tali
b.	Alat musik yang sumber bunyinya berasal dari alat itu sendiri ketika dimainkan
c.	Alat musik yang sumber bunyinya dari getaran udara yang ada
d.	Alat musik yang memperoleh sumber bunyi dari kulit

43. Dalam klasifikasi alat musik menurut fungsinya dalam pertunjukan ada alat musik ritmis, melodis, dan harmonis. Manakah pilihan di bawah ini yang menyatakan alat musik harmonis?

a.	Gitar, mandolin, ukulele, harpa, keyboard, piano, organ
b.	Gitar, mandolin, tabla, bass drum, jimbe, sambilan, triangle, xylophone
c.	Recorder, harpa, tabla, kendang, snare drum, sambilan, triangle, xylophone
d.	Harmonika, tam-tam, tabla, keyboard, snare drum, sasando, triangle, xylophone

44. Sumber bunyi dari alat musik ada beberapa macam, seperti udara, membran, dawai/ snar, listrik, dan badan alat itu sendiri. Dari pilihan di bawah ini, manakah yang merupakan kelompok alat musik membranofone?

a.	Gitar, rebab, violin, kecapi, cello, harpa, sitar, sasando, ukulele, mandolin
b.	Kendang, tifa, jimbe, rebana, bassdrum, snaredrum, tabla, ketipung, bongo
c.	Recorder, seruling, terompet, harmonika, saxophone, horn, trombone
d.	Triangle, kastanyet, simbal, xylophone, kolintang, angklung, calung, kentongan

45. Perhatikan instrumen gamelan dibawah ini:

1. Rincik tingklik rebana
2. Balungan
3. Gendang indung dan kalunter
4. Gangsa kajar ketuk
5. Angklung pengiring
6. Ceng-ceng jegogan kendang

Dari pernyataan di atas, manakah yang termasuk instrumen gamelan Bali!

- a. 1,2,3
- b. 2,4,5
- c. 1,4,6
- d. 2,3,5


46. Instrumen musik tradisional sangat banyak macamnya. Menurut sumber bunyinya, alat musik daerah bisa dipilah-pilah berdasarkan bentuk. Di bawah ini terdapat ciri-ciri dari salah satu instrumen:

1. Bagian yang menonjol dari suatu bidang datar atau yang dianggap datar
2. Sebagai tumpuan pukulan
3. Pada umumnya terbuat dari logam
4. Cara memainkan alat ini adalah dipukul

Dari ciri-ciri di atas, instrumen menurut sumber bunyinya berdasarkan bentuk:

- a. Bilah
- b. Tabung
- c. Bundar
- d. Pencon

47. Musik tradisional adalah jenis musik yang berasal dari suatu daerah, mencerminkan budaya daerah tersebut, sifatnya sederhana dan belum terpengaruh budaya asing. Berikut ini manakah alat musik yang berasal dari Cirebon?



48. Para pemusik masing-masing memegang sebuah bantal tepok di tangan kiri. Bantal tepok adalah sebuah bantal kecil berisi kapuk dengan ukuran kira-kira 20x40 cm dan tebal 4cm, dihiasi dengan reramu, semacam rumbai-rumbai berwarna cerah menyala pada pinggirnya. Berdasarkan ciri-ciri tersebut, berasal dari daerah manakah musik tersebut dimainkan... .
- a. Aceh
b. Sunda
c. Jawa Tengah
d. Papua
49. Dari beberapa pilihan di bawah ini, yang manakah yang merupakan lagu rakyat?
- a. Lir-Ilir
b. Kodok Ngorek
c. Asmaradhana
d. Pucung
e. Tanduk Majeng
f. Macapat
- Pilihannya... .
- a. a, b, e
b. a, b, c
c. c, d, e
d. c, d, f
50. Lagu Yamko Rambe Yamko dari Papua pada awalnya dinyanyikan untuk memberi semangat para pemuda yang akan maju ke medan pertempuran. Apabila lagu ini dinyanyikannya pada zaman sekarang maka bertujuan... .
- a. Memberi semangat untuk bertempur di perbatasan negri
b. Memberi semangat untuk bergerak memisahkan diri dari NKRI
c. Memberi semangat untuk belajar dan bekerja memajukan negri
d. Memberi semangat untuk berlari mengejar ketertinggalan

Selamat Mengerjakan