





ใบงานที่ 1.1 การกำเนิดพลังงานไฟฟ้า

ชื่อ.....รหัสนักศึกษา.....

คำชี้แจง ให้นักศึกษาจับคู่ภาพและประเภทของแหล่งกำเนิดไฟฟ้า พร้อมทั้งอธิบายพอสังเขป

ไฟฟ้าที่เกิดจากพลังงานแม่เหล็กไฟฟ้า	ไฟฟ้าที่เกิดจากพลังงานแสงอาทิตย์	ไฟฟ้าที่เกิดจากปฏิกิริยาเคมี	ไฟฟ้าที่เกิดจากความร้อน	ไฟฟ้าที่เกิดจากการเสียดสีของวัตถุ
-------------------------------------	----------------------------------	------------------------------	-------------------------	-----------------------------------

1)		
2)		
3)		
4)		
5)	