

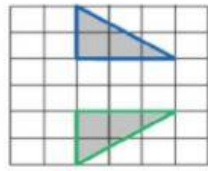


السلام عليكم يا مبدعة  
هيا ساعديني يا مبدعه في الإجابة على أسئلة درس الانعكاس  
حول المرآة  
من أعداد الأستاذة أمل الروشدية

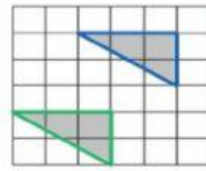
### نشاط علاجي



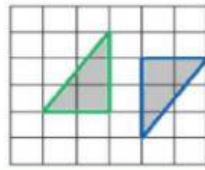
ما الشكل الذي يمثل انعكاس بين الاشكال التالية :-



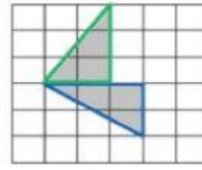
(ب)



(ج)



(د)



(ج)

صل كل رسمه وصورتها في الانعكاس :-

