

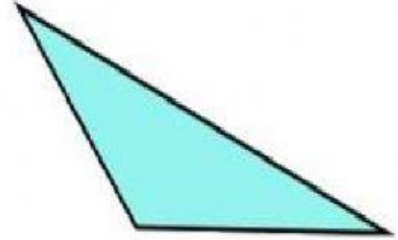

معلومات عامه

❖ يبلغ عدد كواكب المجموعة الشمسية كواكب

❖ اصغر كواكب المجموعة الشمسية كوكب

❖ كوكب يدور في اتجاه معاكس لاتجاه دوران باقي كواكب المجموعة الشمسية

تصنيف المثلثات حسب الزوايا



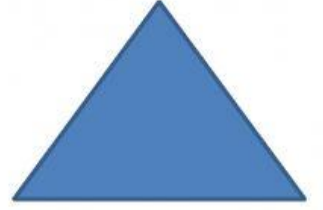

ففي أي دولة يقع هذا المعلم



رتب خطوات الوضوء



صل الشكل بالاسم



دائرة

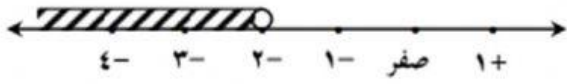
مثلث

معيّن

مستطيل

اختر الإجابة الصحيحة

من الشكل المقابل ، فإن الفترة الممثلة على خط الأعداد هي



- (أ) $(-\infty, -2)$ (ب) $[-2, -\infty)$ (ج) $(-\infty, -2]$ (د) $(-\infty, -2)$

الفترة التي تمثل مجموعة الأعداد الحقيقية الأصغر من 5 أو يساوي 5 والأكبر من -2 هي

- (أ) $(-2, 5]$ (ب) $[-2, 5)$ (ج) $(5, -2)$ (د) $(5, -2]$

صح أم خطأ

إن ناتج $\frac{{}^5 7 \times {}^2 7}{{}^9 7}$ هو ${}^2 7$