











1. Calcula las frecuencias del pictograma:

| COLOR | CANTIDAD | TOTAL |
|----------|---|-------|
| azul |    | |
| rojo |   | |
| amarillo |      | |
| | | |

Cada  representa 6 carros

2. Colorea un por cada y completa el diagrama de barras según la tabla de frecuencias.

| | | | |
|--|--|--|--|
| | | | |
| | | | |
| | | | |

| mascota | votos |
|---------|-------|
| Gato | 4 |
| Perro | 3 |
| Hámster | 1 |
| pez | 2 |

