

**PENILAIAN AKHIR SEMESTER
TAHUN PELAJARAN 2021/2022**

KELAS : 1 (SATU)
TEMA : 1(DIRIKU)
ALOKASI WAKTU : 90 MENIT

Berilah tanda silang (X) pada jawaban yang paling benar pada huruf A, B, atau C!

1. Perhatikan gambar di bawah ini!



Bayu dan teman-temannya saling....

- A. menyayangi
 - B. membenci
 - C. memusuhi
2. Perhatikan gambar di bawah ini!



Sebelum dan sesudah selesai belajar Edo dan teman- temannya selalu

- A. memberi salam kepada guru
 - B. berdoa
 - C. sarapan pagi
3. Perhatikan gambar di bawah ini



Lani rajin membantu Rumah

- A. merusak
- B. mengotori
- C. membersihkan

4. Perhatikan gambar di bawah ini!



Sebelum masuk ke kelas, anak-anak kelas satu selalu

- A. salam kepada guru
- B. bermain
- C. makan

5. Perhatikan gambar di bawah ini!



Edo dan Budi memiliki fisik dan kegemaran yang berbeda, tapi mereka berdua tetap saling

- A. membedakan
- B. menghargai
- C. menjauhi

6. Perhatikan gambar di bawah ini!



Kalimat tanya yang benar untuk gambar di atas adalah

- A. dimana rumahmu?
- B. siapa namamu?
- C. siapa nama gurumu?

8.
7. Perhatikan gambar dibawah ini!



Gambar diatas adalah....

- A. telinga
 - B. mulut
 - C. Lidah
8. Supaya mata tidak rusak, kita harus membaca di tempat yang

- A. terang
- B. gelap
- C. Kotor



9. Setiap hari kita mandi agar badan kita selalu
- A. bersih
 - B. kotor
 - C. basah


10. Perhatikan gambar dibawah ini



Nama bilangan diatas jika ditulis adalah

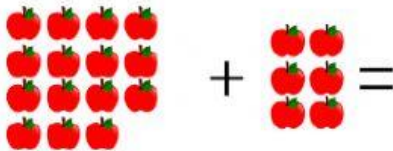
- A. dua puluh
- B. dua puluh Satu
- C. dua puluh dua

11. Perhatikan gambar di bawah ini!




Berapakah jumlah banyak buku diatas....

- A. 18
 - B. 19
 - C. 20
12. Hasil penjumlahan dari $40+9$ adalah
- A. 47
 - B. 49
 - C. 36
13. Hasil pengurangan dari $45-10$ adalah
- A. 15
 - B. 25
 - C. 35
14. Perhatikan gambar dibawah ini



Hasil penjumlahan buah apel diatas adalah....

- A. 21
- B. 22
- C. 2



Perhatikan gambar di atas

15. buah apel lebih dari buah mangga
- A. sama
 - B. banyak
 - C. sedikit


16.. Perhatikan gambar di bawah ini



Anak-anak kelas satu belajar membuat lukisan dengan menggunakan

- A. kuas
- B. pensil warna
- C. jari

17. Perhatikan gambar dibawah ini



Hiasan gambar diatas terbuat dari ...

- A. kertas
- B. daun
- C. telur

18. Perhatikan gambar di bawah ini



Gambar kolase di samping membentuk binatang

- A. ayam
- B. bebek
- C. gajah

19. Perhatikan gambar dibawah ini



gambar di atas adalah gerakan tari menggerakan ...

- A. kaki
- B. tangan
- C. mata

20. Perhatikan gambar di bawah ini



Andi sedang

- A. memasak
- B. memancing
- C. Melukis

21. Perhatikan gambar dibawah ini



Setiap pagi Dodi selalu..... pagi

- A. Lari
- B. Tidur
- C. berenang

22. Perhatikan gambar dibawah ini



Budi dan teman-temannya berjalan dengan tegak agar tubuh

- A. jatuh
- B. seimbang
- C. sakit

23. Perhatikan gambar dibawah ini



Gambar diatas adalah anak sedang melakukan

- A. pemanasan
- B. makan
- C. lari

24. Perhatikan gambar dibawah ini



Perhatikan gambar di atas

Edo dan teman teman sedang berolahraga

- A. renang
- B. sepakbola
- C. bola tangan

25. Perhatikan gambar dibawah ini



Andi sedang

- A. tidur
- B. lari
- C. duduk

26. Perhatikan gambar dibawah ini



Sebelum makan, kita
seharusnya....

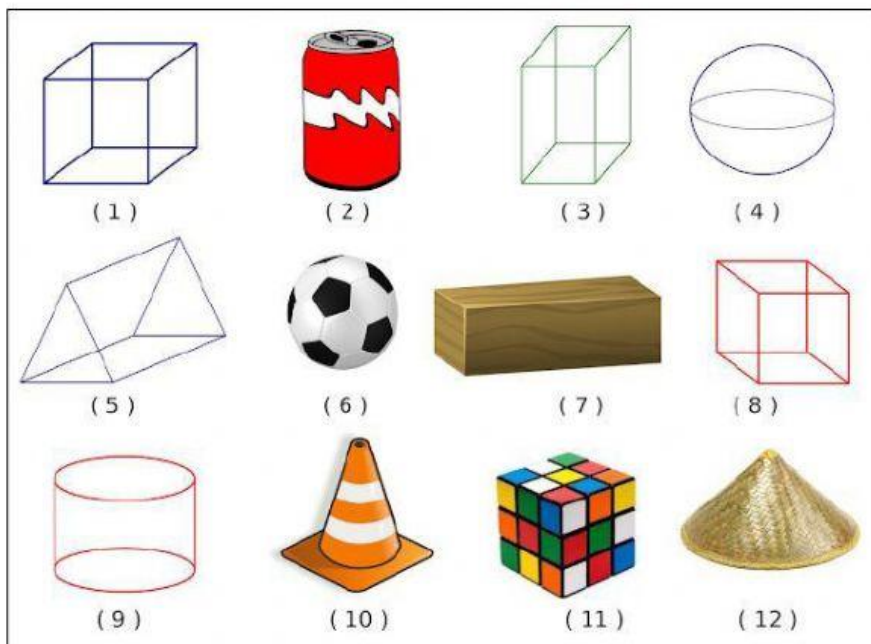
- A. bernyanyi
- B. berlari
- C. berdoa

27. Perhatikan gambar di bawah ini

Kalimat yang sesuai dengan gambar adalah



- A. ibu sedang belanja di pasar
- B. ibu sedang memasak
- C. ibu sedang mencuci baju



Gambar nomor 1 berbentuk ...

- A. tabung
- B. kubus
- C. Kerucut

29. Perhatikan gambar!

Perhatikan gambar diatas,kolase dibuat dengan cara....

- A. menggunting dan menempel
- B. menggunting dan mencetak
- C. melukis dan mencetak



30. Perhatikan gambar di bawah ini



Gambar diatas adalah gerakan

- A. membungkuk
- B. Merunduk
- C. mencium lutut