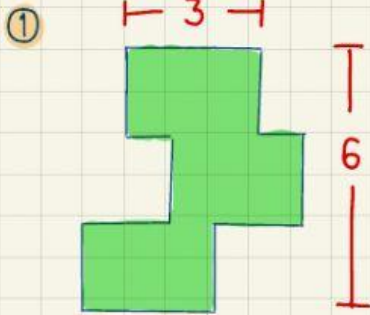


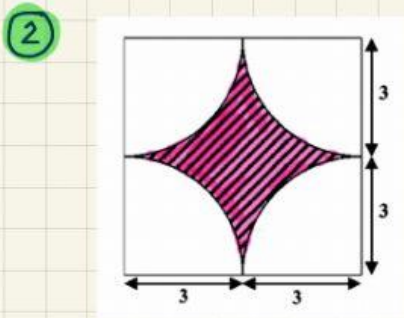
แบบฝึกหัด เรื่อง การประยุกต์การแปลงทางเรขาคณิต



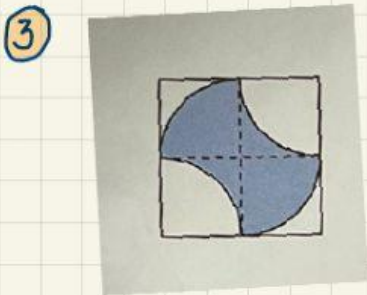
คำชี้แจง จงหาพื้นที่แรเงา



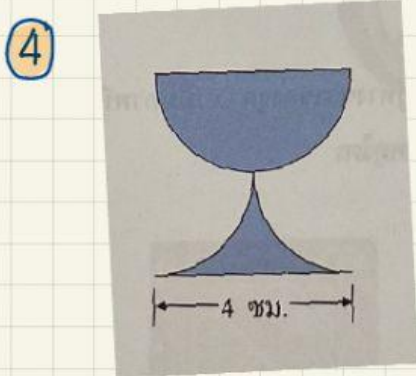
พื้นที่แรเงา =



พื้นที่แรเงา =

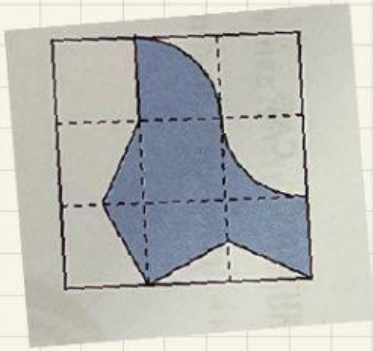


พื้นที่แรเงา =



พื้นที่แรเงา =

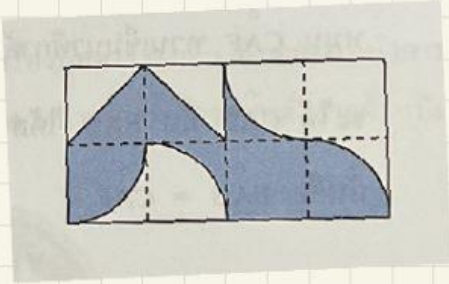
5



ផ្ទៃ  
សរុប =



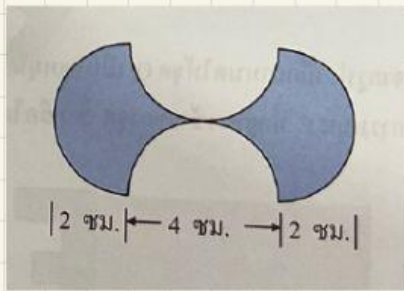
6



ផ្ទៃ  
សរុប =



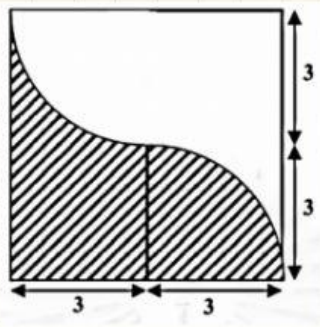
7



ផ្ទៃ  
សរុប =



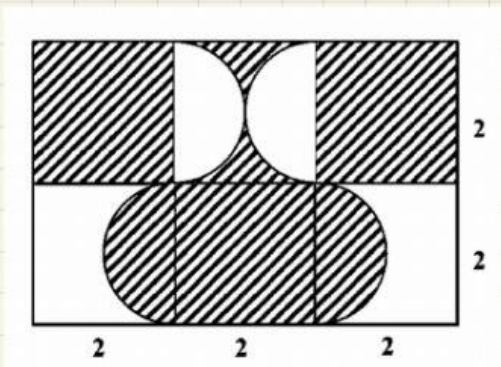
8



ផ្ទៃ  
សរុប =



9



ផ្ទៃ  
សរុប =