

**LKPD MATEMATIKA**  
**KELAS 2 TEMA 4 SUBTEMA 2**


**A. TUJUAN PEMBELAJARAN**

1. Dengan mengamati tayangan video tentang Bangun Datar, siswa dapat menunjukkan benda benda konkret
2. Dengan mencermati video, siswa dapat menunjukkan bangun datar berdasarkan banyak sisi, sudut, dan titik sudut

**B. PETUNJUK PENGGUNAAN LKPD**

1. Berdoalah sebelum melakukan kegiatan pembelajaran
2. Isilah identitas LKPS (nama, kelas, nomor)
3. Cermati petunjuk kegiatan
4. Teliti Kembali sebelum mengumpulkan



**C. MATERI VIDEO**



D. KEGIATAN BELAJAR

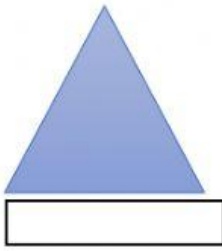
a) Cermati video tentang bangun datar

b) Tentukan bentuk benda sesuai dengan bangun datar




c) Tuliskan jumlah sisi pada bangun datar berikut


Segitiga




Persegi / Segi empat



Lingkaran




Segi lima



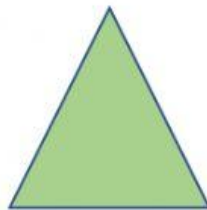
d) Kerjakan soal di bawah ini !

1. Apakah nama bangun datar di bawah ini ?



- a. Lingkaran
- b. Persegi
- c. Segi tiga

2. Berapa jumlah titik sudut pada bangun di bawah ini ?



- a. 5
- b. 7
- c. 3

3. Berapa jumlah sudut pada bangun di bawah ini ?



- a. 5
- b. 6
- c. 4

e) Tariklah gambar yang sesuai dengan pola berikut !

The image contains three rows of shapes for a visual discrimination task. Each row consists of a sequence of colored shapes followed by two empty boxes for selection.

- Row 1:** A blue circle, an orange triangle, a blue circle, an orange triangle, followed by two empty boxes.
- Row 2:** A green rectangle, a light blue triangle, a cyan pentagon, a green rectangle, a light blue triangle, a cyan pentagon, followed by one empty box.
- Row 3:** A red trapezoid, a dark blue hexagon, a yellow diamond, a red trapezoid, a dark blue hexagon, followed by two empty boxes.

To the right of these rows is a vertical rectangular box containing four options for selection:

- A blue circle
- A green rectangle
- An orange triangle
- A red trapezoid
- A yellow diamond