



FICHA DE REPASO

1º TRIMESTRE 1º

1) Escribe los siguientes números

25: _____

14: _____

32: _____

8: _____

2) Escribe el número anterior y posterior

____33____ ____14____ ____20____ ____37____

3) Escribe el amigo del 10

6 y ____

5 y ____

8 y ____

9 y ____

2 y ____

1 y ____

4) Ordena de menor a mayor

35 – 12 – 18 – 39 – 11 – 2 – 7 – 24 – 26 – 14

< < < < < < < < <






5) Escribe el número



=

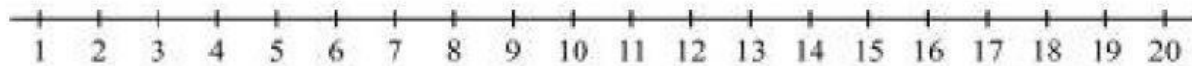


=



=

6) Calcula con la ayuda de la recta numérica



$12+4=$

$18+1=$

$14-7=$

$11+9=$

$15-9=$

$9+3=$

$17-5=$

$18-9=$

7) En una tienda hay 14 personas. Después entran 2 más. ¿Cuántas personas hay ahora?

Haz clic solo en los datos, coloca en el lugar correcto: y resuelve.

D DECENAS	U UNIDADES
<input type="text"/>	<input type="text"/>
<input type="text"/>	<input type="text"/>
<input type="text"/>	<input type="text"/>

D DECENAS	U UNIDADES
<input type="text"/>	<input type="text"/>
<input type="text"/>	<input type="text"/>
<input type="text"/>	<input type="text"/>

En la tienda hay personas





8) Sara tiene 19 caramelos. Si pierde 2 canicas y 3 caramelos, ¿Cuántos caramelos tiene ahora?


Haz clic solo en los datos, coloca en el lugar correcto: y resuelve.

D DECENAS	U UNIDADES
<hr/>	

D DECENAS	U UNIDADES
<hr/>	

Tiene_____ caramelos

9) ¿Qué hora es? Selecciona



10) Marca los objetos que tengan forma de cubo

