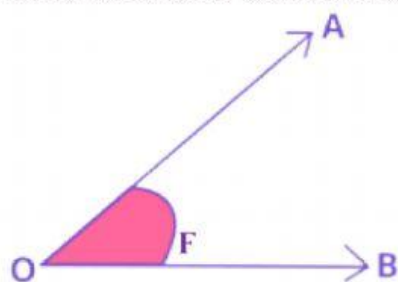


1. Studia il disegno sotto. Indica le parti dell'angolo. Scrivi le risposte nella linea accanto a ciascuna lettera



A. \_\_\_\_\_

B. \_\_\_\_\_

F. \_\_\_\_\_

O. \_\_\_\_\_

2. Completa ciascuna frase sotto, identificando i vari tipi di angolo

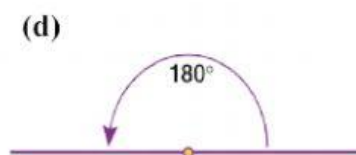
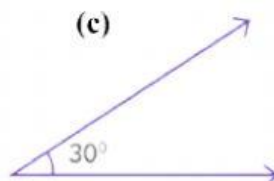
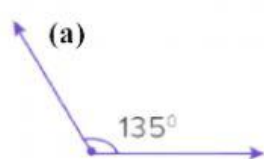
I. Un angolo \_\_\_\_\_ misura 180 gradi.

II. Un angolo acuto misura meno di \_\_\_\_\_ gradi.

III. Un angolo \_\_\_\_\_ misura esattamente 90 gradi.

IV. Un angolo \_\_\_\_\_ misura tra 90 e 180 gradi.

3. Scrivi il nome dell'angolo nella linea sotto ciascun disegno



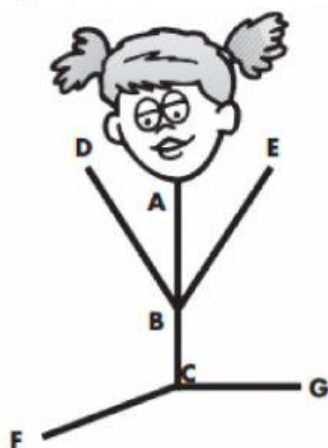
\_\_\_\_\_

\_\_\_\_\_

\_\_\_\_\_

\_\_\_\_\_

4. Guarda l'immagine. Scrivi il nome di ogni tipo di angolo nella linea accanto



(a)  $\angle ABE$

\_\_\_\_\_

(b)  $\angle FCG$

\_\_\_\_\_

(c)  $\angle ACG$

\_\_\_\_\_

(d)  $\angle ABC$

\_\_\_\_\_