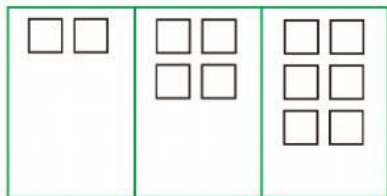


a. 1, 2, 3

b. 2, 1, 3

c. 3, 1, 2

6. Pola bilangan sesuai gambar di bawah ini adalah



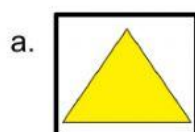


a. 2, 4, 6

b. 4, 2, 6

c. 2, 6, 4

7. Gambar di bawah ini termasuk bangun datar segi empat adalah




8. Bangun ruang di bawah ini bernama

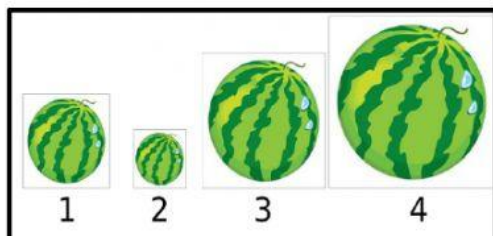
a. prisma

b. balok

c. kubus



9. Perhatikan gambar di bawah ini!




Urutan benda di atas mulai dari yang terkecil adalah

a. 2, 3, 4, 1

b. 3, 2, 1, 4


c. 2, 1, 3, 4

10. Contoh benda yang berupa bangun ruang kerucut adalah ...
- a. Penggaris b. topi petani c. dadu
11. Contoh benda yang berupa bangun datar lingkaran adalah
- a. uang kertas b. uang logam c. bola
12. Pengubinan pada gambar di bawah ini berbentuk bangun datar berupa




- a. lingkaran b. segi empat c. segitiga
13. Pengubinan pada gambar di bawah ini terbentuk dari dua bangun datar yakni ...

- a. segitiga dan lingkaran
- b. segitiga dan segi empat
- c. segitiga dan kubus




14. Pola bangun datar pada gambar di bawah ini berupa bangun datar ...

- a. Lingkaran-segitiga
- b. segi empat-lingkaran
- c. segitiga-lingkaran



15. Bangun datar yang tepat untuk melengkapi pola bangun datar di bawah ini adalah



- a. segitiga
- b. segi empat
- c. lingkaran