

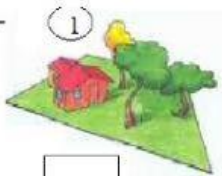
Nome:

Data:

Veja a legenda e identifique as imagens de acordo com o ponto de vista em que foi observado. **VO** = Visão Oblíqua **VV** = Visão Vertical

A -

①



②




B -

①

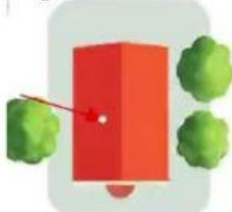


②



C -

①



②





Visão Oblíqua



Visão Vertical

Leve a figura até o ponto de vista que a representa.

