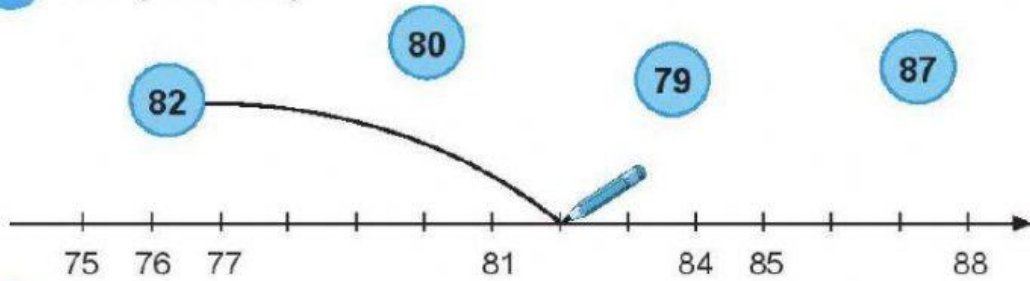


# KIỂM TRA

1 Nói (theo mẫu).




2 Nói (theo mẫu).

11 - 3	6
18 - 9	7
12 - 6	8
15 - 8	9

3 Đặt tính rồi tính.

$$21 + 57$$

$$68 - 5$$



4 Tính:


$$7 + 4 = \dots$$

$$5 + 9 = \dots$$


$$6 \text{ dm} + 5 \text{ dm} - 7 \text{ dm} = \dots$$

$$12 \text{ l} - 3 \text{ l} + 9 \text{ l} = \dots$$

5 Khoanh vào hình để thể hiện **tổng** số hình tròn hai loại.



6 Khoanh vào **phần nhiều hơn** của số hình tròn màu xanh so với số hình tròn màu đen.



7 Đúng ghi **đ**, sai ghi **s**.

Cho biết năm nay An **8** tuổi, chị Tư **14** tuổi.

a) An ít hơn chị Tư 6 tuổi.

b) Chị Tư nhiều hơn An 6 tuổi.

c) An và chị Tư bằng tuổi nhau.

8 Lan đọc được **12** cuốn truyện. Hùng đọc được ít hơn Lan **4** cuốn truyện. Hỏi Hùng đọc được bao nhiêu cuốn truyện?

