

REVIEW MATEMATIKA

Pilihlah satu jawaban dengan benar!

1. Modus adalah
2. Median adalah
3. Mean (rata-rata) adalah ...
4. Perhatikan grafik di bawah ini, untuk mengerjakan !



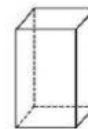
5. Modus dari nilai PAI siswa kelas 4E adalah
6. Median dari nilai PAI siswa kelas 4E adalah
7. Rata-rata dari nilai PAI siswa kelas 4E adalah ...
8. Perhatikan tabel di bawah ini!

Tabel nilai tugas Bahasa Indonesia Andrian selama semester 1!

Tugas ke-1	Tugas ke-2	Tugas ke-3	Tugas ke-4	Tugas ke-5
85	80	90	95	...

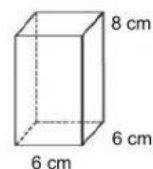
Jika Andrian ingin agar di akhir semester 1 nilai rata-rata matematikanya mendapat nilai 90, maka pada tugas kelima dia harus mendapat nilai ...

9. Rumus mencari volume gambar di samping adalah ...

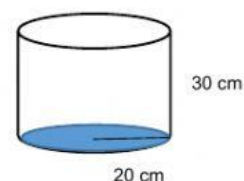


10. Rumus mencari volume tabung adalah ...

11. Volume dari gambar di samping adalah ... cm^3 .



12. Volume dari gambar di samping adalah ... cm^3 .



13. Diketahui bak kamar mandi Radian berbentuk balok dengan ukuran panjang 80 cm, lebar 50 cm dan tinggi 50 cm. Volume bak kamar mandi Ahsan adalah ... cm^3 .
14. Diketahui sebuah tandon air berbentuk tabung dengan jari-jari 3 m dan tinggi 6 m. Jika tandon tersebut diisi air setengah dari volume totalnya maka volume air dalam tandon adalah ... m^3 .