

10. Perhatikan lirik lagu berikut!

PELANGI a t mahmud

5 | 3 3 3 3 | 3 . . 3 | 2 1 7 1 | 2 . . 5 |
 pe-langi pelangi alangkah indahmu me-

| 4 4 4 3 | 2 . . 4 | 3 2 1 2 | 3 . . 3 |
 rah kuning hijau di langit yang biru pe-

| 5 5 5 3 | 4 . . 4 | 3 3 3 1 | 2 . . 5 |
 lukismu agung si- a- pa gerangan pe-

| 1 . 3 3 | 2 . 4 . | 3 3 2 2 | 1 . . ||
 la- ngi pe- la- ngi ciptaan tu- han

Lagu diatas di dikarang oleh

- a. L Manik b. A.T Mahmud c. Ibu Sud

PILIHAN GANDA KOMPLEKS

KD 3.2

Pola irama adalah pengulangan **irama** secara terus menerus dan teratur dalam sebuah musik. Penentuan **pola irama** sangat dipengaruhi oleh jumlah pengulangan **irama** tiap hitungan. Apabila dalam hitungan ada pengulangan **irama** sebanyak dua kali, maka **pola** iramanya adalah dua

Perhatikan penggalan lagu berikut untuk menjawab soal nomor 11 dan 12.

0	3	4	5	3	2	1	2	3	2	.
Ru-	ri	a-	da-	lah	a-	bang-	ku			
(1)	(2)	(3)	(4)	(5)	(6)	(7)	(8)			

11. Bagian lagu dinyanyikan panjang ditunjukkan nomor







- (1) (3) (8) (6) (2)

12. Bagian lagu yang dinyanyikan dengan pendek ditunjukkan nomor

- (1) dan (8)
 (6) dan (7)
 (2) dan (5)
 (2) dan (8)
 (5) dan (8)

KD 3.3

Gerak Dasar Tari

	Posisi sikap awal menari kaki rapat, badan tegap		Posisi tangan lurus ke bawah, badan tegap
	Gerak menekuk tangan ke samping		Gerak menekuk tangan ke atas
	Posisi kaki berjinjit		Gerak mengangkat kaki

Gerak Tari berasal dari gerak anggota tubuh. Kita bisa meniru gerakan sehari-hari untuk dijadikan gerak tari yang indah.

13. Anggota tubuh yang dapat bergerak untuk menari adalah...

- Menghadap ke atas
- Menoleh ke kiri dan kanan
- Menunduk
- Menoleh Ke Kiri
- Menoleh Ke Kanan



KD 3.4

14. Cara membuat hiasan dari sabun batangan, menggunakan alat dan Bahan:

- Pensil
- Pahat Ukir atau pisau
- Sabun
- Baju
- Benang



MENJODOHKAN

KD 3.4

Karya Hias dari bahan Alam
 Bahan Alam dapat digunakan untuk membuat karya.
 Bahan alam terdapat di lingkungan sekitar kita.
 Contoh Bahan Alam untuk membuat karya dan contoh karya dari bahan alam tersebut.

15. Dari gambar berikut pasangkanlah karya dengan bahan alam yang digunakan. Hubungkan dengan garis.

a.		<input type="checkbox"/>	<input type="checkbox"/>	
b.		<input type="checkbox"/>	<input type="checkbox"/>	
c.		<input type="checkbox"/>	<input type="checkbox"/>	

16. Hubungkanlah gambar berikut dengan garis sesuai dengan nama benda tersebut!

	<input type="checkbox"/>	<input type="checkbox"/>	MAWAR
	<input type="checkbox"/>	<input type="checkbox"/>	BIJI-BIJIAN
	<input type="checkbox"/>	<input type="checkbox"/>	BOTOL

BENAR SALAH

KD 3.4

Karya Hias dari bahan Alam
Bahan Alam dapat digunakan untuk membuat karya.
Bahan alam terdapat di lingkungan sekitar kita.
Contoh Bahan Alam untuk membuat karya dan contoh karya dari bahan alam tersebut.



17. Berilah tanda centang dari pernyataan berikut ini!

Pernyataan	Benar	Salah
Biji-bijian bukan berasal dari bahan Alam	<input type="radio"/>	<input type="radio"/>
Mozaik dari biji-bijian berasal dari bahan alam	<input type="radio"/>	<input type="radio"/>
Daun kering dapat dibuat kolase	<input type="radio"/>	<input type="radio"/>

ISIAN SINGKAT

KD 3.4

18. Daun Kering, bunga, dan ranting merupakan bahan alam yang berasal dari

KD 3.2

PELANGI at mahmud

5 | 3 3 3 3 | 3 . . 3 | 2 1 7 1 | 2 . . 5 |
pe-langi pelangi . . alangkah indahmu me-

| 4 4 4 3 | 2 . . 4 | 3 2 1 2 | 3 . . 3 |
rah kuning hijau . . di langit yang biru pe-

| 5 5 5 3 | 4 . . 4 | 3 3 3 1 | 2 . . 5 |
lukismu agung . . si-a-pa gerangan pe-

| 1 . 3 3 | 2 . 4 . | 3 3 2 2 | 1 . . ||
la- ngi pe- la- ngi . . ciptaan tu- han

19. Judul lagu di atas berjudul

URAIAN

KD 3.4

Karya Hias dari bahan Alam
Bahan Alam dapat digunakan untuk membuat karya.
Bahan alam terdapat di lingkungan sekitar kita.

20. Sebutkan bahan-bahan yang berasal dari bahan alam