







Γεωγραφία Ε' Δημοτικού - Τεστ στα κεφάλαια 3 και 4

Βρες το σωστό και το λάθος. Για κάθε σωστή πρόταση σημείωσε Σ ενώ για κάθε λανθασμένη Λ :

- A) Κάθε χάρτης έχει μόνο υπόμνημα. (...)
- B) Κάθε σύμβολο και χρώμα του χάρτη αντιστοιχεί σε ένα συγκεκριμένο στοιχείο του τόπου που απεικονίζει ο χάρτης. (...)
- Γ) Τα σύμβολα και τα χρώματα ενός χάρτη μπορεί να τα διαβάσει οποιοσδήποτε ανεξάρτητα από τη γλώσσα που μιλάει. (...)
- Δ) Το υπόμνημα ερμηνεύει τα καιρικά φαινόμενα ενός συγκεκριμένου τόπου πάνω στο χάρτη. (...)
- Ε) Ένας χάρτης για να διαβαστεί θα πρέπει να έχει απαραίτητα τίτλο και υπόμνημα. (...)
- Ζ) Το υπόμνημα μας ερμηνεύει τα διάφορα σύμβολα που υπάρχουν πάνω σε ένα χάρτη. (...)
- Η) Ο τίτλος ενός χάρτη είναι μια χαρακτηριστική φράση που αφορά την ιστορία της περιοχής που απεικονίζει. (...)

Αντιστοίχισε τα σύμβολα της ομάδας Α με τις αντίστοιχες ερμηνείες της ομάδας Β :

A	B
α) 	1) αεροδρόμιο
β) 	2) κατασκήνωση (κάμπινγκ)
γ) 	3) επιβατικό λιμάνι
δ) 	4) μοναστήρι, θρησκευτικό μνημείο
ε) 	5) χιονοδρομικό κέντρο
στ) 	6) πρωτεύουσα νομού

Απάντησε στις ερωτήσεις σύντομα και περιεκτικά :

✓ Τι είναι ο τίτλος ενός χάρτη;

✓ Τι είναι το υπόμνημα ενός χάρτη;

Βρες το σωστό και το λάθος. Για κάθε σωστή πρόταση σημείωσε Σ ενώ για κάθε λανθασμένη Λ :

- A) Όλοι οι χάρτες έχουν σχεδιαστεί με την ίδια κλίμακα. (...)
- B) Όταν ένας χάρτης δείχνει πολλές λεπτομέρειες σημαίνει ότι η κλίμακά του είναι μεγάλη. (...)
- Γ) Κλίμακα 1:1.000.000 δηλώνει ότι η απόσταση ενός μέτρου πάνω στο χάρτη αντιστοιχεί με απόσταση ενός εκατομμυρίου εκατοστών στο έδαφος. (...)
- Δ) Κλίμακα είναι ένας αριθμός που δηλώνει πόσες φορές μικρότερη είναι μια απόσταση πάνω στο χάρτη από την πραγματική στο έδαφος. (...)
- Ε) Δεν είναι απαραίτητο όλοι οι χάρτες να έχουν κλίμακα (...)
- Ζ) Η κλίμακα στην ουσία είναι ένα κλάσμα. (...)
- Η) Όταν η κλίμακα ενός χάρτη μικραίνει, τότε ο παρονομαστής μικραίνει κι αυτός. (...)

Συμπλήρωσε τις λέξεις που λείπουν από το παρακάτω κείμενο :

Βασικό στοιχείο ενός χάρτη είναι η του, που είναι ένας αριθμός που δηλώνει πόσες φορές είναι μια απόσταση στον από την πραγματική απόσταση στο Όταν ο χάρτης δείχνει πολλές λεπτομέρειες, τότε ο παρονομαστής της κλίμακας ενώ όταν η κλίμακα μικραίνει ο παρονομαστής της.....